



Όνομα: _____

1. Να σχεδιάσεις με τη βοήθεια του γνώμονα α) μία παράλληλη ευθεία β) μία τεμνόμενη ευθεία και γ) μία τεμνόμενη κάθετη ευθεία



Ας κάνουμε μία μικρή επανάληψη

α)	β)	γ)

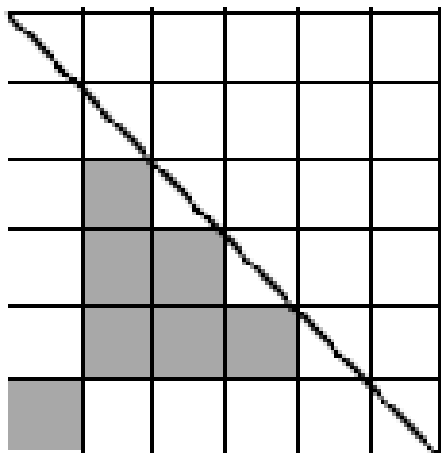
2. Με τη βοήθεια του γνώμονα έλεγξε ποιες ευθείες είναι κάθετες. Βάλε x στο κουτάκι


 <input type="checkbox"/>	 <input type="checkbox"/>	 <input type="checkbox"/>
 <input type="checkbox"/>	 <input type="checkbox"/>	 <input type="checkbox"/>
 <input type="checkbox"/>		

3. Να σχεδιάσεις ένα σχήμα με 24 εκ. περίμετρο και ένα σχήμα με 12 εκ. εμβαδόν



4. Χρωμάτισε τα τετράγωνα ώστε να σχηματιστεί ένα συμμετρικό σχέδιο ως προς τον άξονα συμμετρίας του. Έπειτα, να βρεις την περίμετρο και το εμβαδόν των παρακάτω σχημάτων

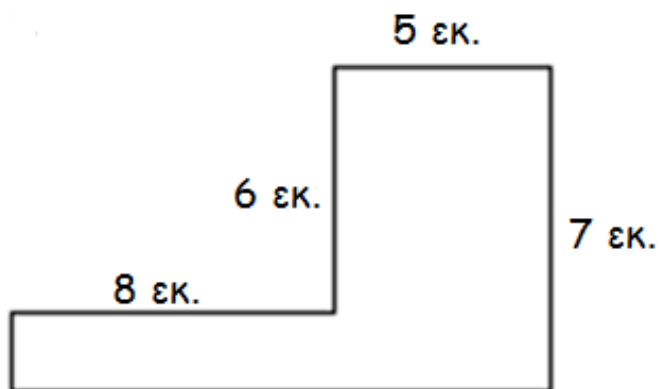


1 εκ. 

Περίμετρος: _____

Εμβαδόν: _____

5. Να υπολογίσεις την περίμετρο και το εμβαδό του παρακάτω σχεδίου



Λύση

Περίμετρος:

Εμβαδόν: