

Προβλήματα Πρόσθεσης για μαθητές Α Δημοτικού




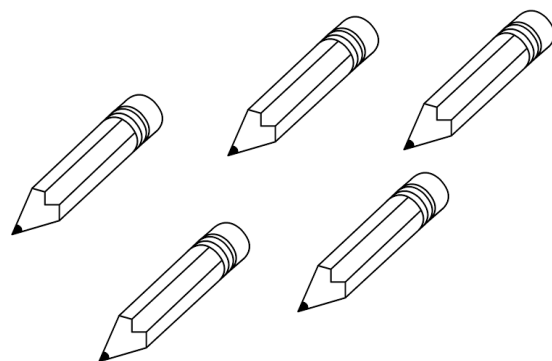
1. Ο Πέτρος έχει 3 μολύβια. Η Μαρία έχει 2 μολύβια.

Πόσα μολύβια έχουν και τα δύο παιδιά μαζί;

Λύση

Απάντηση

Και τα δύο παιδιά έχουν μολύβια.



2. Ο Γιώργος έχει 4 τάπες. Ο Άρης έχει 2 τάπες.

Πόσες τάπες έχουν και τα δύο παιδιά μαζί;

Λύση

Απάντηση



Και τα δύο παιδιά έχουν τάπες.

3. Ο Μάνος έχει 4 βόλους. Ο παππούς του έδωσε άλλους 4 βόλους. Πόσους βόλους έχει συνολικά;

Λύση

Απάντηση

Ο Μάνος έχει βόλους.



4. Ο Νικόλας έφαγε το πρωί 3 μπισκότα. Το απόγευμα έφαγε άλλα 4 μπισκότα.


Πόσα μπισκότα έφαγε συνολικά;

Λύση

Απάντηση

Ο Νικόλας έφαγε συνολικά μπισκότα.

Ζωγραφίζω



5. Ο Θοδωρής έχει 3 μαρκαδόρους. Η Ελένη έχει 2 μαρκαδόρους και η Σοφία έχει 4 μαρκαδόρους. Πόσους μαρκαδόρους έχουν και τα τρία παιδιά μαζί;

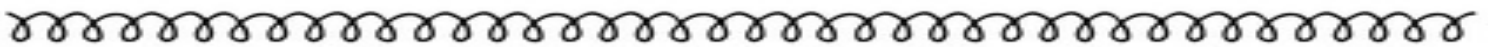
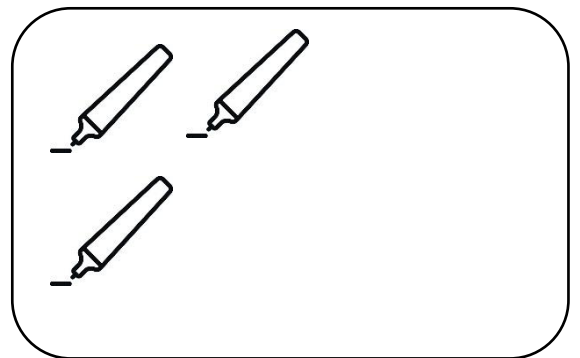
Λύση

Απάντηση

Τα τρία παιδιά έχουν

μαρκαδόρους.

Ζωγραφίζω




6. Η Γιώτα μάζεψε 5 λουλούδια. Η Ηρώ μάζεψε 3 λουλούδια και ο Σταύρος 2 λουλούδια. Πόσα λουλούδια μάζεψαν και τα τρία παιδιά;

Λύση

Απάντηση

Ζωγραφίζω



7. Ο Μιχάλης έχει στον κουμπαρά του 6 ευρώ. Του έδωσε ο μπαμπάς του άλλα 3 ευρώ. Πόσα χρήματα έχει συνολικά;

Λύση

Απάντηση






8. Ο Γιάννης έβαλε 3 καλάθια. Ο Τάσος έβαλε 2 καλάθια και ο Δημήτρης έβαλε 4 καλάθια. Πόσα καλάθια βάλανε συνολικά τα τρία παιδιά;

Λύση

Απάντηση




9. Σε ένα δέντρο κάθονται 5 πουλάκια. Έρχονται άλλα 4 πουλάκια.

Πόσα είναι συνολικά;

Λύση

Απάντηση




10. Η Θάνος έχει 6 αυτοκινητάκια. Του έδωσε ο νονός του 2 αυτοκινητάκια και η νονά του άλλα 2 αυτοκινητάκια.

Πόσα αυτοκινητάκια έχει συνολικά;

Λύση

Απάντηση


Ζωγραφίζω



11. Στην αυλή παίζουν ποδόσφαιρο 5 αγόρια και 3 κορίτσια. Πόσα παιδιά παίζουν ποδόσφαιρο;

Λύση

Απάντηση



12. Μία κότα έχει 2 πόδια. Πόσα πόδια έχουν οι 3 κότες;

Λύση

Απάντηση

Ζωγραφίζω

