





Τα νομίσματα μέχρι το 10

Όνομα: _____

1. Πόσα χρήματα έχει κάθε κουμπάρας;



2. Ζωγραφίζω όσα χρήματα χρειάζεται για να αγοράσω κάθε αντικείμενο

	9 ευρώ	
	4 ευρώ	
	2 ευρώ	
	10 ευρώ	
	7 ευρώ	

3. Κάνω τις παρακάτω προσθέσεις

$$\begin{array}{|c|} \hline 5 \\ \hline \end{array} \text{€} + \begin{array}{|c|} \hline 5 \\ \hline \end{array} \text{€} = \dots\dots\dots$$

$$\begin{array}{|c|} \hline 5 \\ \hline \end{array} \text{€} + \begin{array}{|c|} \hline 2 \\ \hline \end{array} \text{€} = \dots\dots\dots$$

$$\begin{array}{|c|} \hline 2 \\ \hline \end{array} \text{€} + \begin{array}{|c|} \hline 2 \\ \hline \end{array} \text{€} = \dots\dots\dots$$

$$\begin{array}{|c|} \hline 2 \\ \hline \end{array} \text{€} + \begin{array}{|c|} \hline 1 \\ \hline \end{array} \text{€} = \dots\dots\dots$$