

Οργάνωση δεδομένων και πληροφοριών

Όνομα: _____

1. Η Ηρώ έδωσε στους συμμαθητές της ένα ερωτηματολόγιο σχετικά με το ποιο άθλημα προτιμούν περισσότερο. Τα δεδομένα που συγκέντρωσε είναι τα εξής:

Μπάσκετ : 6 παιδιά

Ποδόσφαιρο : 8 παιδιά

Βόλεϋ : 4 παιδιά

Τέννις: 3 παιδιά

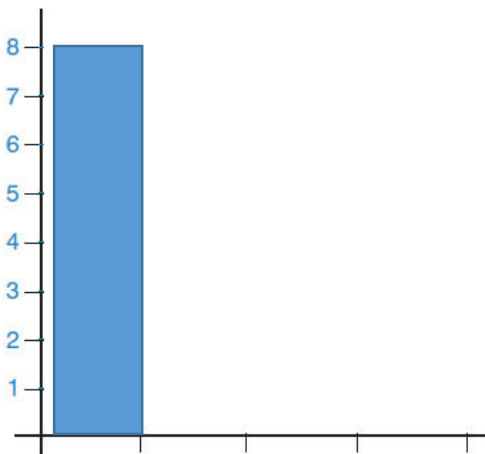


Με βάση τις πληροφορίες που κατέγραψε να συμπληρώσεις τον παρακάτω πίνακα, εικονόγραμμα, ραβδόγραμμα και ιστόγραμμα

άθλημα	αριθμός παιδιών

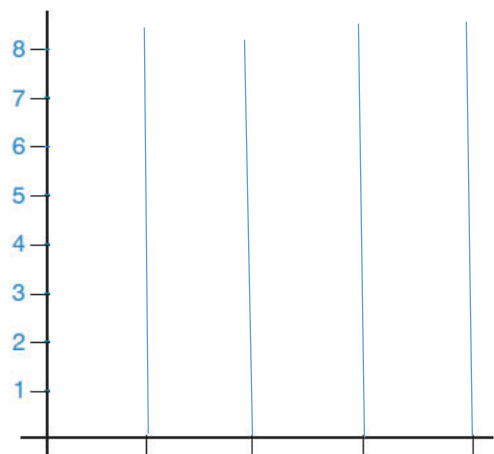
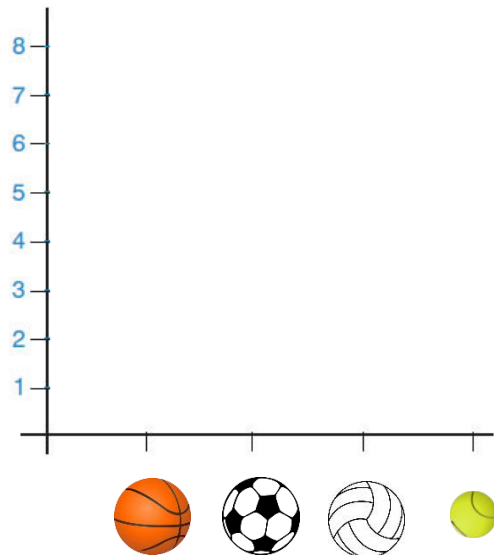
πίνακας

ραβδόγραμμα



μπάσκετ ποδόσφαιρο βόλεϋ τέννις

Εικονόγραμμα



μπάσκετ ποδόσφαιρο βόλεϋ τέννις