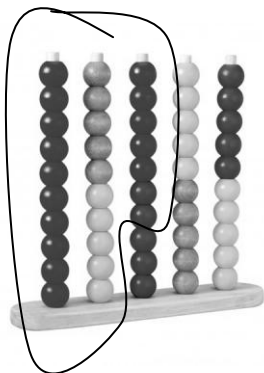



# Οι αριθμοί μέχρι το 50

Όνομα: \_\_\_\_\_


1. Κυκλώνω όσα λέει ο αριθμός και μετά αναλύω. Δες το παράδειγμα



27




30



18

$10+10+7=27$


---



13




45



22

---

Θυμήσου! Δε χρειάζεται να τα μετράς όλα.  
 =10



## 2. Συμπληρώνω τον προηγούμενο και τον επόμενο αριθμό

	20	
	10	
	34	
	29	
	41	
	49	

## 3. Συμπλήρωσε όπως το παράδειγμα

Το 34 είναι  $10+10+10+4$  δηλαδή 3Δ και 4Μ

Το 18 είναι \_\_\_\_\_ δηλαδή \_\_\_\_Δ και \_\_\_\_Μ

Το 29 είναι \_\_\_\_\_ δηλαδή \_\_\_\_Δ και \_\_\_\_Μ

Το 43 είναι \_\_\_\_\_ δηλαδή \_\_\_\_Δ και \_\_\_\_Μ