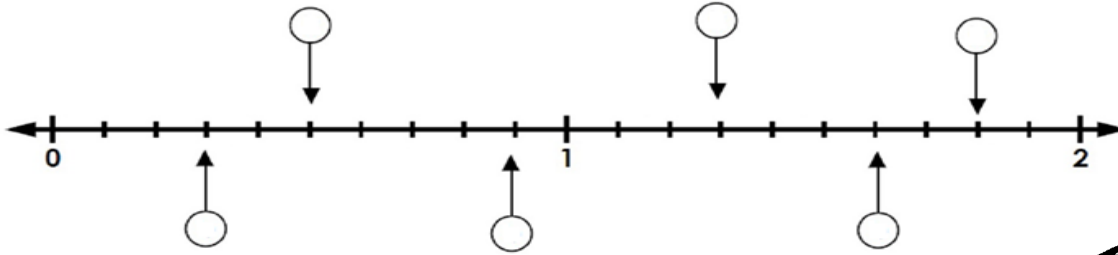


### 3ο Επαναληπτικό διαγώνισμα

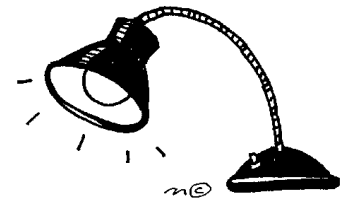
Όνομα: \_\_\_\_\_



1. Γράψε τους δεκαδικούς αριθμούς πάνω στην αριθμογραμμή







2. Να συμπληρώσεις τον παρακάτω πίνακα




μέτρα	δέκατα	εκατοστά	χιλιοστά
	67		
5			
		700	
			2.100

3. Ποιος δεκαδικός αριθμός είναι;




.....


4. Χρωμάτισε τον δεκαδικό αριθμό




0,23



0,4



0,9



0,51

**4. Κάνε τις παρακάτω πράξεις κάθετα**

$23,3 + 0,092 = \dots\dots\dots$ ,  $13,5 + 24,37 = \dots\dots\dots$

$5,9 - 4,36 = \dots\dots\dots$ ,  $27 - 3,68 = \dots\dots\dots$

**5. Η Μαρία ζυγίζει 31 κιλά και 500 γραμμάρια. Η Γιώτα ζυγίζει 33,2 κιλά. Ποιο κορίτσι έχει μεγαλύτερο βάρος και πόσο;**

**Λύση**



**Απάντηση:.....**

**6. Ένα βαρέλι με κρασί ζυγίζει 123 κιλά. Αν το κρασί ζυγίζει 115,5 κιλά. Πόσα κιλά ζυγίζει το βαρέλι; Συμπλήρωσε τον παρακάτω πίνακα.**

**Λύση**



Καθαρό βάρος	Μεικτό βάρος	Απόβαρο