

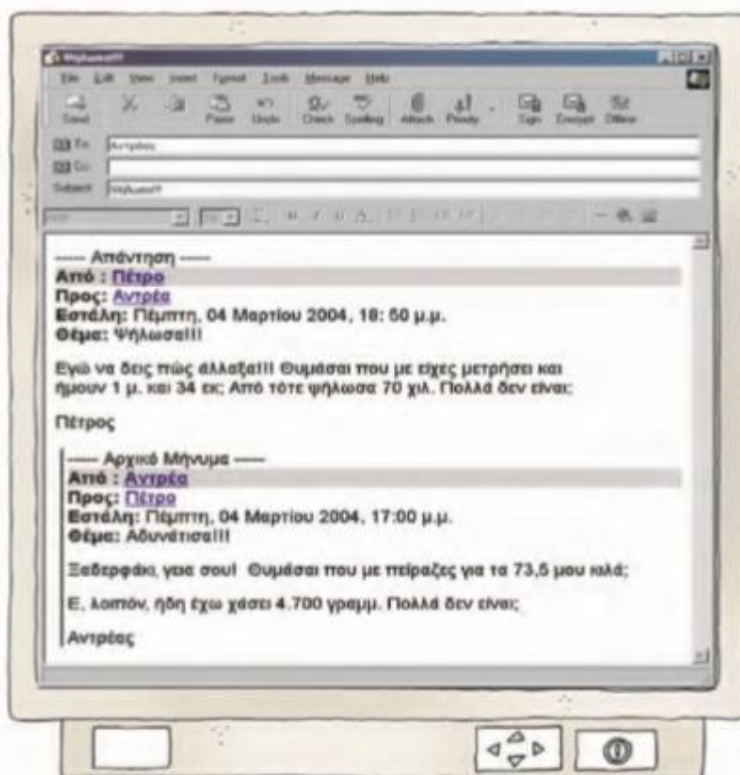
Ηλεκτρονικό ταχυδρομείο

🌀 Πώς συμβάλλει η εξέλιξη των επιστημών στην επικοινωνία των ανθρώπων;

- Ο ξάδερφος του Πέτρου σπουδάξει στο Πανεπιστήμιο Αιγαίου, στη Μυτιλήνη. Τα ξαδέρφια επικοινωνούν μέσω ηλεκτρονικού ταχυδρομείου (e-mail).

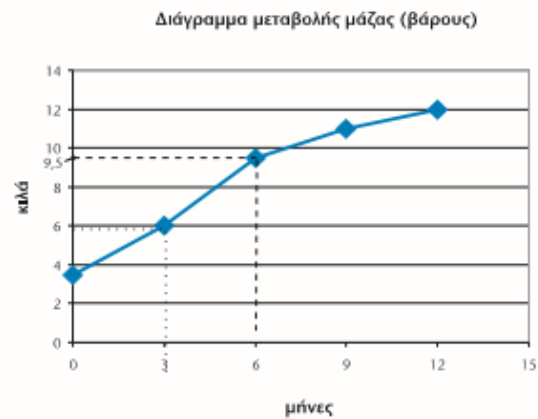
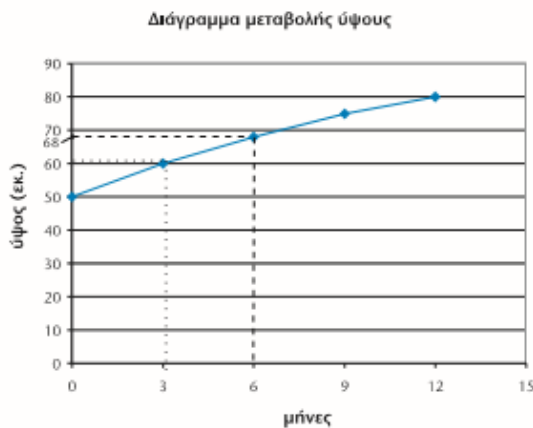
Διαβάζω προσεκτικά τα κείμενα και απαντώ:

- Πόσο ζυγίζει τώρα ο Αντρέας;
 $73,5 - 4,7 = 68,8$ κιλά
- Ποιο είναι τώρα το ύψος του Πέτρου;
 $1,34 + 0,7 = 1,41$ μ.
- Τι ώρα έστειλε το μήνυμα ο Αντρέας;
Στις 17:00μμ
- Τι ώρα του απάντησε ο Πέτρος;
Στις 18:50μμ
- Πόση ώρα μεσολάβησε;
1 ώρα και 50 λεπτά



Εργασία

- Ο Πέτρος βρήκε στο Βιβλιάριο Υγείας του στοιχεία για την ανάπτυξή του τον πρώτο χρόνο της ζωής του:



- Παρατηρούμε τα διαγράμματα και συμπληρώνουμε τον πίνακα:

Ηλικία σε μήνες	Ημέρα γέννησης	3	6	9	12
Ύψος σε μέτρα	0,5 μ.	0,6 μ.	0,68 μ.	0,75 μ.	0,80 μ.
Μάζα σε γραμμ. (βάρους)	3.500 γραμμ.	6.000 γρ.	9.500 γρ.	11.000 γρ.	12.000 γρ.

- Σήμερα ο Πέτρος ζυγίζει 38 κ. και 250 γραμμ. Από τον 1ο χρόνο της ζωής του:

Το βάρος του έχει αυξηθεί κατά **26,25** κ.

Το ύψος του έχει αυξηθεί κατά **0,61** μ.



Συμπέρασμα

Για να διαχειριστείς αποτελέσματα μέτρησης που αναφέρονται σε μία μονάδα, τα πολλαπλάσια και τις υποδιαιρέσεις της, πρέπει να κάνεις τις κατάλληλες μετατροπές.