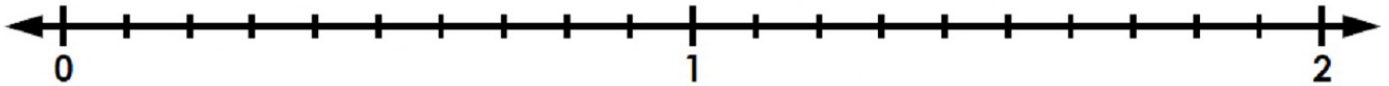
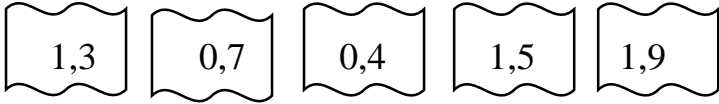



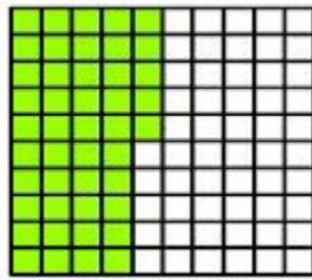
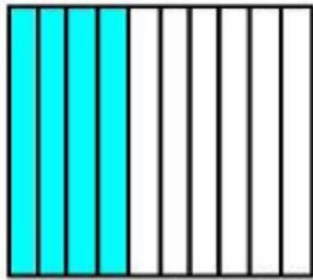
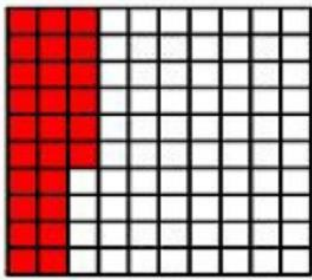
Προσθέτω και αφαιρώ δεκαδικούς αριθμούς

Όνομα: _____

1. Τοποθέτησε τους δεκαδικούς αριθμούς πάνω στην αριθμογραμμή



2. Γράψε κάτω από κάθε διάγραμμα τον δεκαδικό αριθμό



3. Συμπλήρωσε τις ισότητες

| | | |
|-----------------|-----------------|----------------|
| 0,3 0,03 | 4,04,00 | 7,87,088 |
| 1,25 1,5 | 3,00730,7 | 5,0 0,5 |
| 3,563,560 | 5,9 3,90 | 0,050,15 |
| 1,8 1,808 | 2,5 25,0 | 4,44,04 |
| 3,33,300 | 9,019,001 | 5,75,71 |

4. Γράψε τα χρήματα με μορφή δεκαδικού αριθμού



.....



.....



.....

5. Γράψε τους ακέραιους αριθμούς με μορφή δεκαδικού

| | | | | |
|-----------|-----------|------------|-----------|------------|
| 3 =..... | 12 =..... | 4 =..... | 37 =..... | 25 =..... |
| 56 =..... | 1 =..... | 609 =..... | 40 =..... | 101 =..... |

6. Τοποθέτησε προσεχτικά τον έναν αριθμό κάτω από τον άλλο και κάνε τις προσθέσεις

$4,69 + 31,8 = \dots\dots\dots$, $0,150 + 12 = \dots\dots\dots$, $4,09 + 11 = \dots\dots\dots$

$15 + 0,25 = \dots\dots\dots$, $4,5 + 3,05 = \dots\dots\dots$, $13,60 + 5,809 = \dots\dots\dots$

