

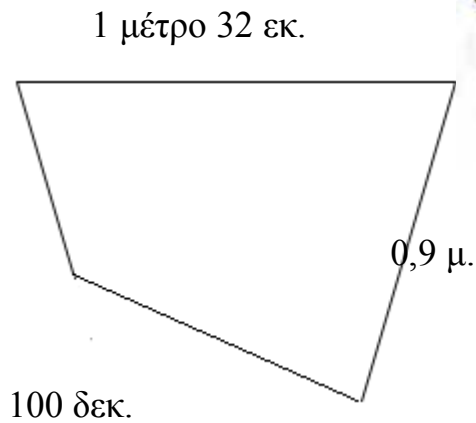
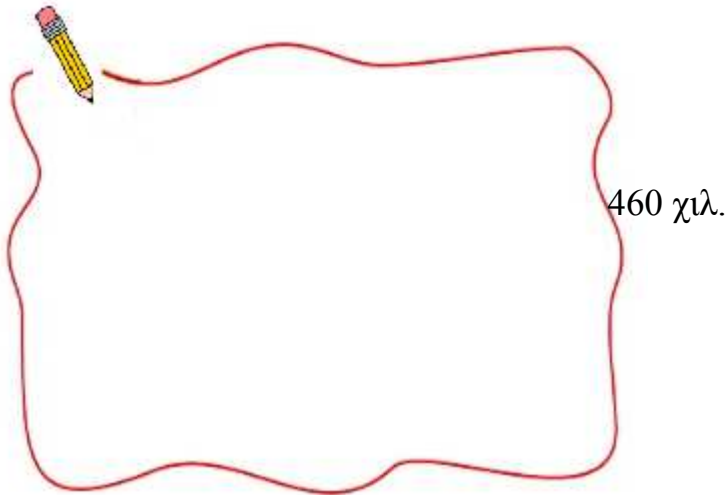
Επιλύω προβλήματα

Όνομα: _____

Μη ξεχνάς ότι πρέπει να μετατρέψεις όλα τα μήκη στην ίδια μονάδα μέτρησης.

1. Να βρεις την περίμετρο του παρακάτω σχήματος.


Λύση



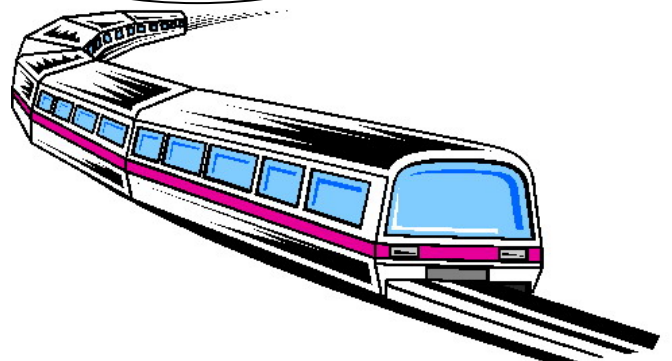
Απάντηση:.....

2. Το τρένο από το σταθμό φεύγει στις 6:20 και φτάνει στη Θεσσαλονίκη σε 3 ώρες και 55 λεπτά. Τι ώρα δηλαδή θα φτάσει;

Λύση




Υπολόγισε με συμμιγείς αριθμούς



Απάντηση:.....

3. Το μέγιστο βάρος που δέχεται ο ανελκυστήρας είναι 225 κιλά. Ο κύριος Νίκος θέλει να μεταφέρει ένα φορτίο που ζυγίζει 125,9 κιλά. Το βάρος του κύριου Νίκου είναι 96 κιλά 785 γραμμάρια. Μπορεί να χρησιμοποιήσει τον ανελκυστήρα με το φορτίο;


Λύση



Απάντηση:.....

4. Η δασκάλα μας έχει σήμερα τα γενέθλιά της και γίνεται 38 χρονών. Η Έλενα είναι 9 χρονών 9 μηνών και 24 ημερών. Πόσα χρόνια μεγαλύτερη είναι η δασκάλα της;

Λύση



Απάντηση:.....