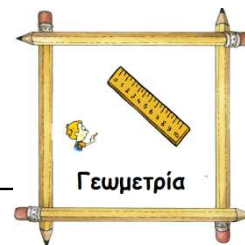
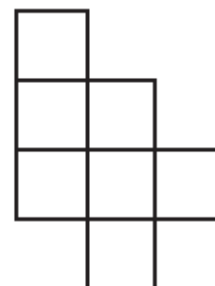
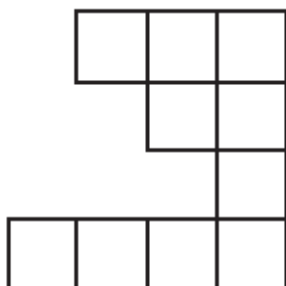
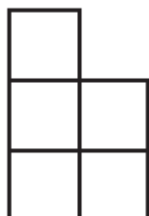
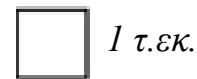


# Μετρώ την επιφάνεια, βρίσκω το εμβαδόν



Όνομα: \_\_\_\_\_

1. Να βρεις την περίμετρο και το εμβαδό των παρακάτω σχημάτων



Περίμετρος:.....

Περίμετρος:.....




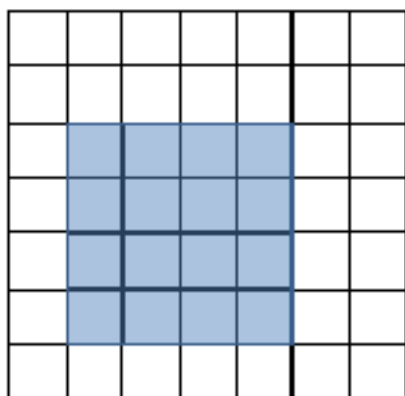
Περίμετρος:.....

Εμβαδόν :.....

Εμβαδόν:.....

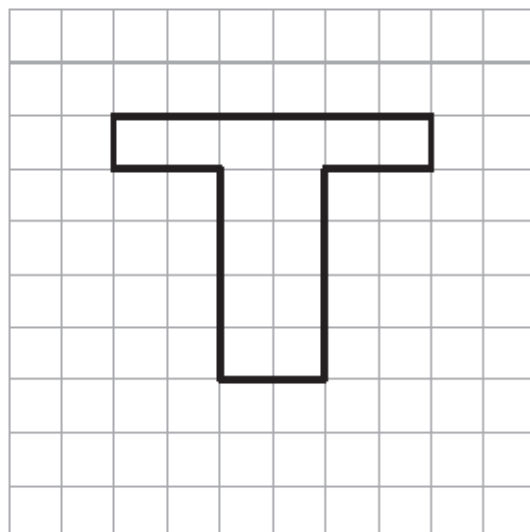
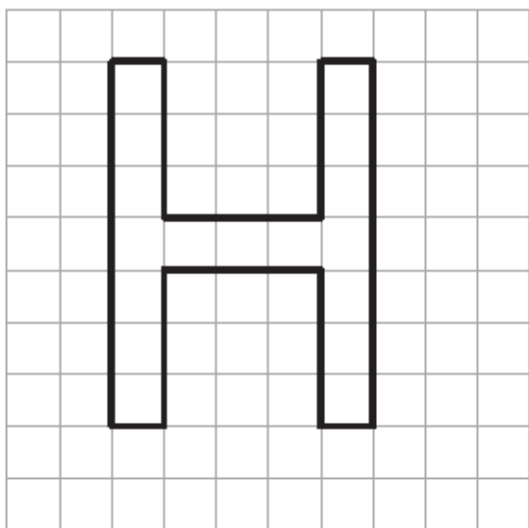
Εμβαδόν:.....

2. Σχημάτισε 3 σχήματα με την ίδια περίμετρο



3. Να βρεις την περίμετρο και το εμβαδό στα παρακάτω σχήματα.

1 τ.εκ.

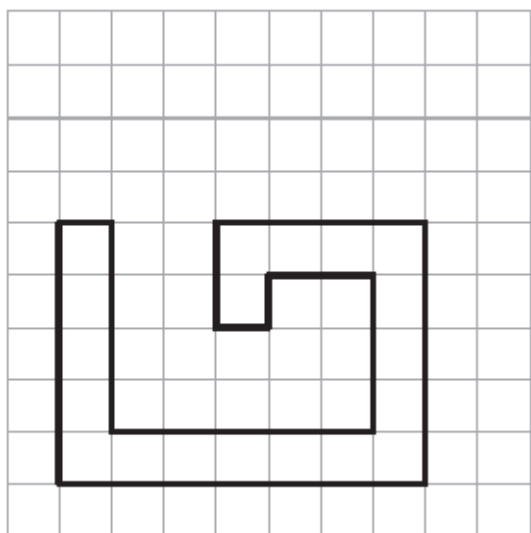


Εμβαδόν:.....

Περίμετρος:.....

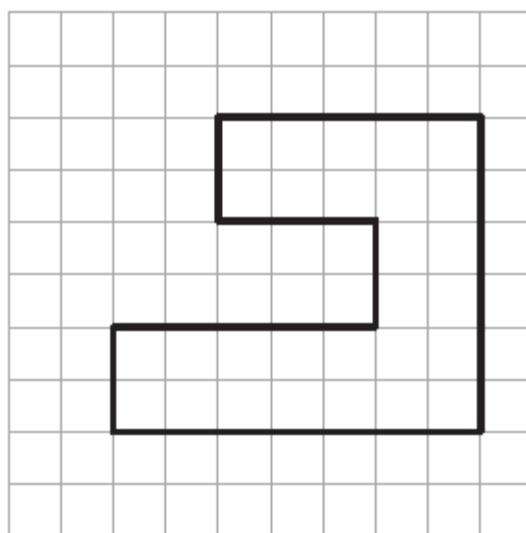
Εμβαδόν:.....

Περίμετρος:.....



Εμβαδόν:.....

Περίμετρος:.....



Εμβαδόν:.....

Περίμετρος:.....