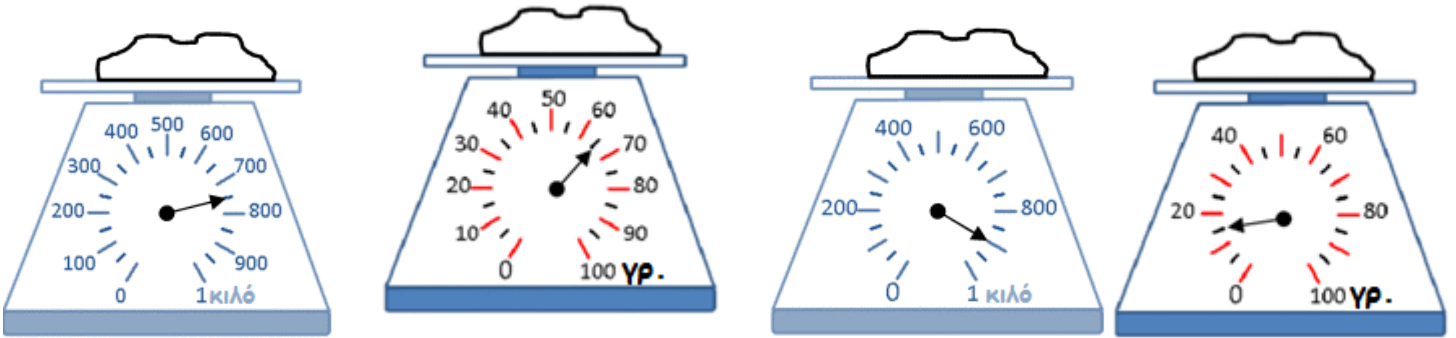


Μετρώ το βάρος




Όνομα:.....

1. Γράφω με όσους τρόπους μπορώ το βάρος που δείχνει η ζυγαριά



.....
.....

2. Η Ελένη πήγε στο μανάβικο. Υπολόγισε το συνολικό βάρος




Μετατρέπουμε πρώτα όλες τις μονάδες μέτρησης στην ίδια μονάδα και μορφή (π.χ. κιλά ή γραμμάρια)

1,5 κιλά

750 γραμ.

1 κιλό και 300 γραμ.



Λύση

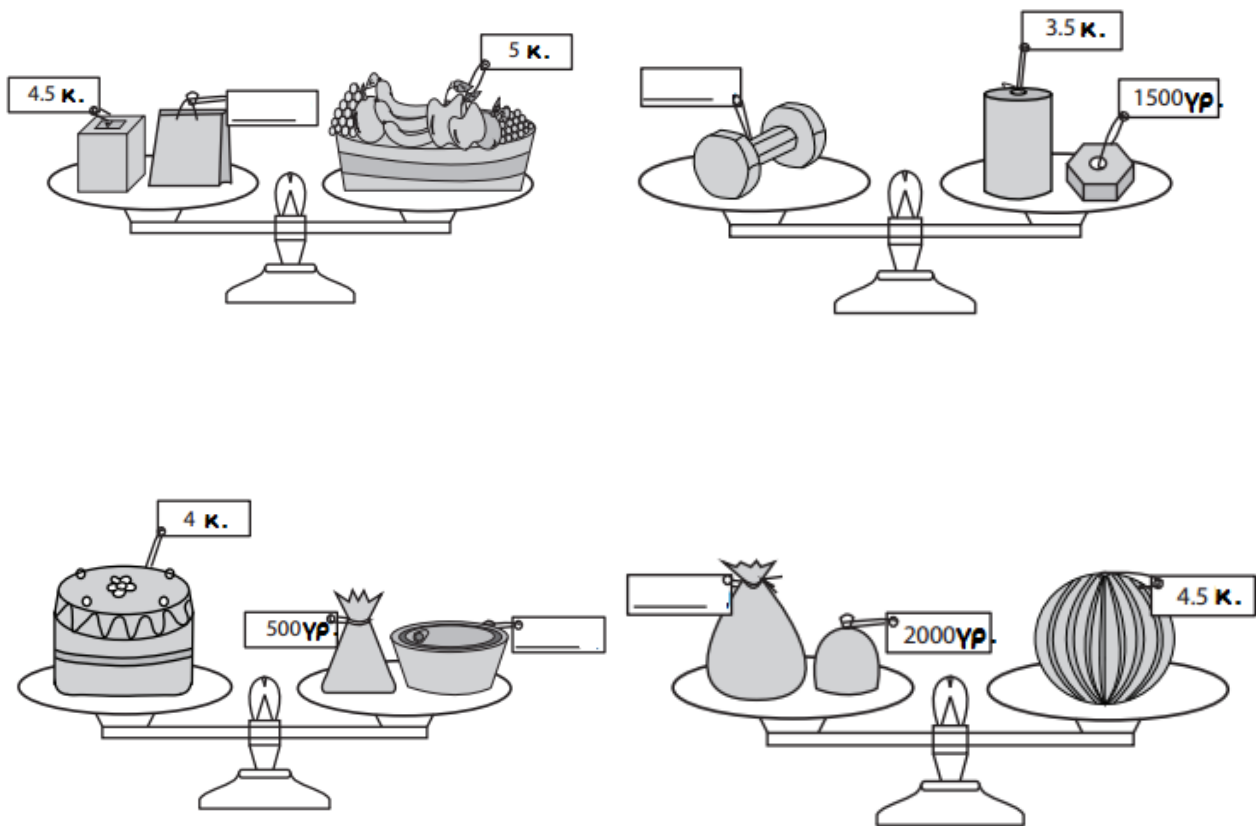
.....

Απάντηση:.....

3. Αντιστοιχίζω

το $\frac{1}{4}$ του κιλού	200 γραμ
το $\frac{1}{2}$ του κιλού	250 γραμ.
τα $\frac{3}{4}$ του κιλού	500 γραμ.
τα $\frac{4}{4}$ του κιλού	750 γραμ.
το $\frac{1}{5}$ του κιλού	1 κιλό ή 1.000 γραμ.

4. Συμπληρώνω τις ισότητες στις ζυγαριές



5. Συμπληρώνω τον παρακάτω πίνακα

Καθαρό βάρος	Μεικτό βάρος	Απόβαρο
1,5 κιλό	2.200 γραμ.	
500 γραμ.		0,3 κιλά
	1 κιλό και 350 γραμ	420 γραμ.
2 τόνοι	2,700 τόνους	
0,700 κιλά		500 γραμ.