

# Διακρίνω το περίγραμμα από την επιφάνεια




Όνομα: \_\_\_\_\_



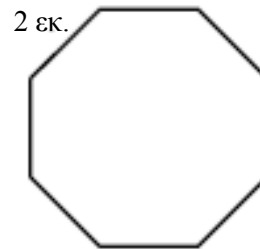
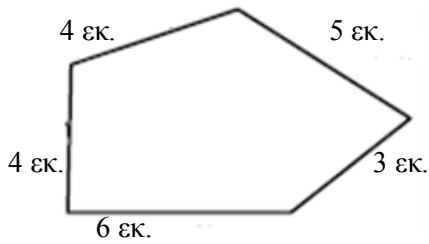
**Περίμετρος** είναι το μέρος γύρω γύρω από το σχήμα

**Επιφάνεια** είναι το μέσα μέρος από το σχήμα

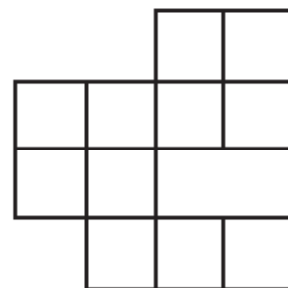
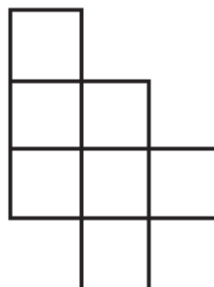
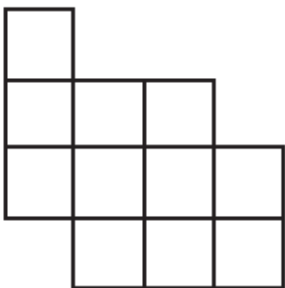
1. Να βάψεις την επιφάνεια της καρδιάς με κόκκινο και την περίμετρο με μαύρο.



2. Να βρεις την περίμετρο των παρακάτω σχημάτων



3. Να βρεις την περίμετρο και την επιφάνεια των παρακάτω σχημάτων



Περίμετρος:.....

Επιφάνεια:.....


Περίμετρος:.....

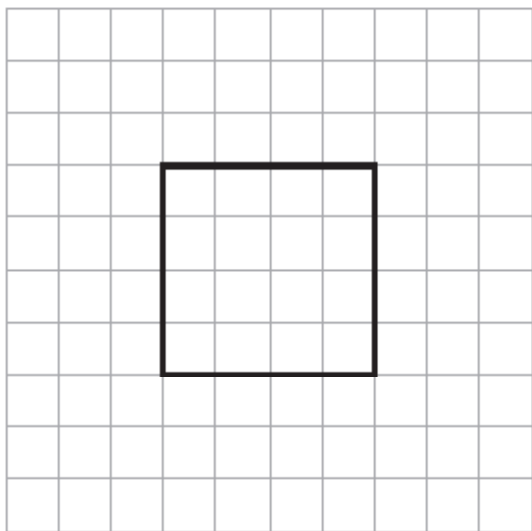
Επιφάνεια:.....

Περίμετρος:.....

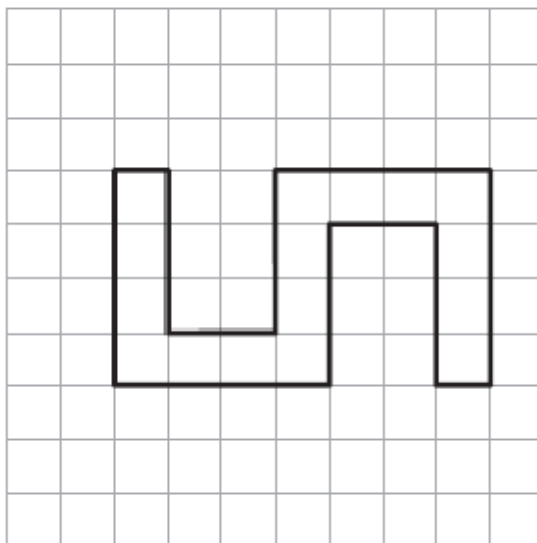
Επιφάνεια:.....

4. Ποιο σχήμα έχει τη μεγαλύτερη επιφάνεια; Να υπολογίσεις με ακρίβεια και να συγκρίνεις.

 1 τ.εκ.



Σχήμα (α)



Σχήμα (β)

Επιφάνεια α:.....

Επιφάνεια β:.....

Απάντηση:.....

5. Να σχεδιάσεις ένα σχήμα με 20 εκ. περίμετρο και ένα σχήμα με 12 εκ. περίμετρο

