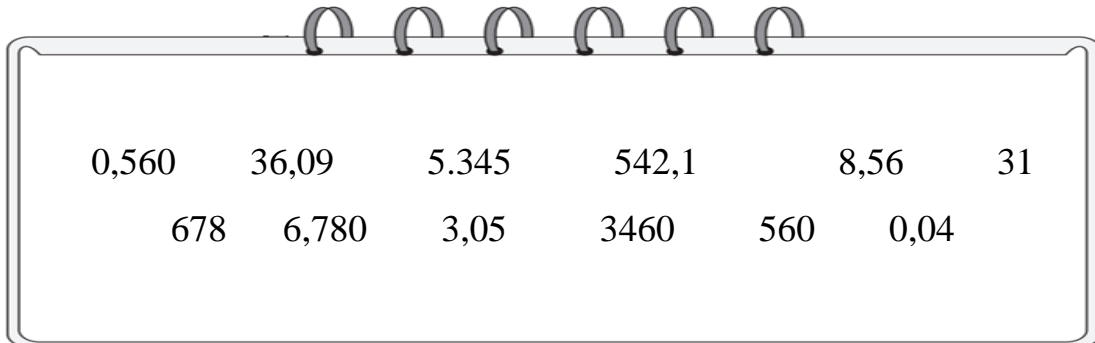


Θυμάμαι τους δεκαδικούς αριθμούς

Όνομα: _____

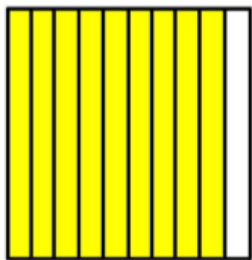
1. Κόκλωσε μόνο τους δεκαδικούς αριθμούς



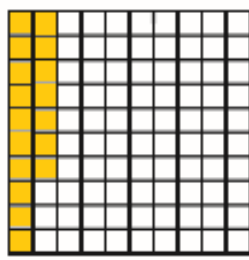
Σε ποιους από τους παραπάνω αριθμούς υπάρχουν μηδενικά που δεν επηρεάζουν την αξία τους;

.....

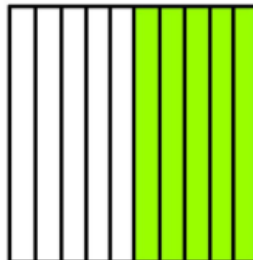
2. Ποιος δεκαδικός αριθμός είναι;



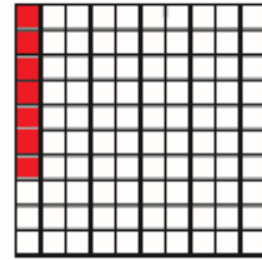
.....



.....




.....




.....


3. Χρωμάτισε τον δεκαδικό αριθμό




0,47



0,3

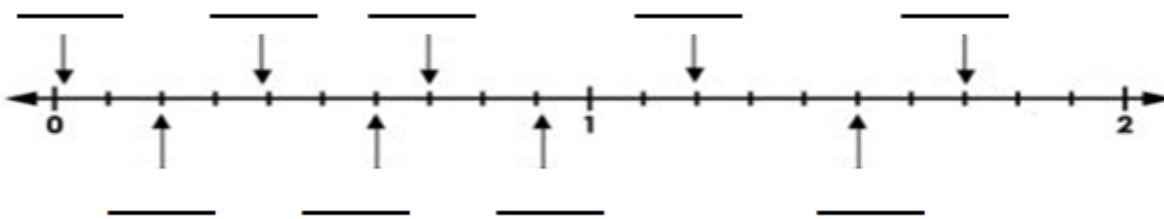


0,6



0,85

4. Γράψε τους δεκαδικούς αριθμούς πάνω στην αριθμογραμμή



5. Γράψε την αξία του υπογραμμισμένου ψηφίου

0, <u>9</u> 7	εκατοστά
1 <u>2</u> ,67	
6,9 <u>0</u>	
<u>1</u> 45,0 <u>1</u>	
4,00 <u>1</u>	
<u>5</u> .789,3	

6. Γράψε με δεκαδικό αριθμό

- ❖ 5 δέκατα.....
- ❖ 7 χιλιοστά.....
- ❖ 3 εκατοστά.....
- ❖ 32 χιλιοστά.....
- ❖ 2 μονάδες και 5 δέκατα.....



7. Γράψε με λόγια τους δεκαδικούς αριθμούς

- ❖ 4,56.....
- ❖ 32,6.....
- ❖ 124,8.....
- ❖ 0,004.....
- ❖ 12,107.....