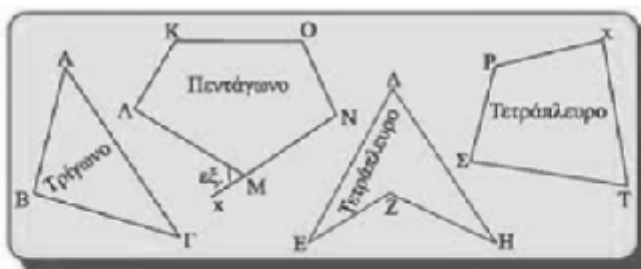


# Μαθαίνω για τα πολύγωνα


Όνομα: \_\_\_\_\_

Το πολύγωνο είναι μία κλειστή τεθλασμένη γραμμή

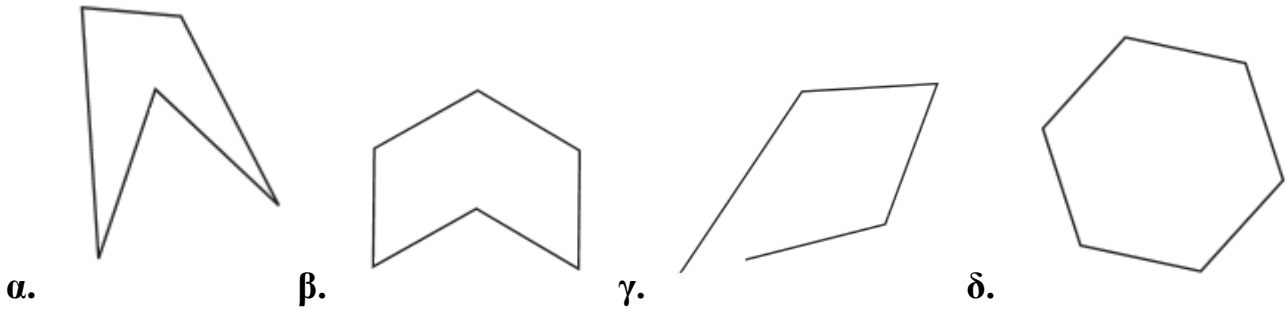
Ανάλογα με τον αριθμό των γωνιών ή των πλευρών του το πολύγωνο ονομάζεται τρίγωνο, τετράγωνο, πεντάγωνο κτλ



1. Να σχηματίσεις με το χάρακά σου ένα εξάγωνο και ένα πεντάγωνο

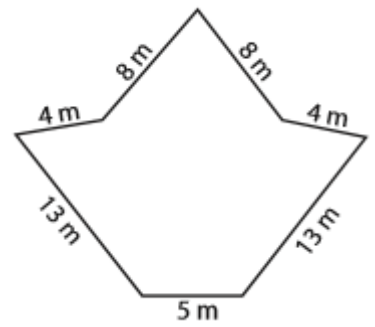
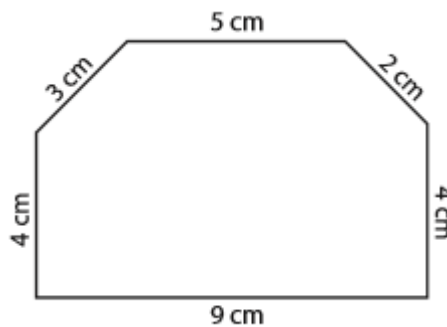
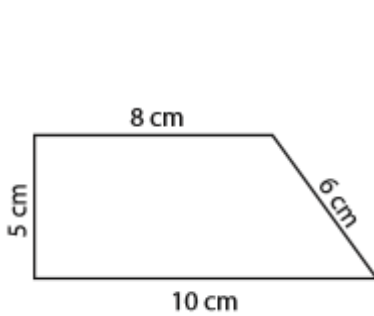


2. Ζωγράφισε με κόκκινο σχήματα είναι πολύγωνα και έπειτα πόσες πλευρές και κορυφές έχουν



α. πλευρές..... β. πλευρές..... γ. πλευρές..... δ. πλευρές.....  
 κορυφές..... κορυφές..... κορυφές..... κορυφές.....

3. Βρες την περίμετρο των παρακάτω πολυγώνων



\_\_\_\_\_

4. Χώρισε τα πολύγωνα ώστε να

α. σχηματιστεί 1 ορθογώνιο και 2 τρίγωνα

β. 6 τρίγωνα και 1 εξάγωνο

