

Επανάληψη στις πράξεις

Όνομα: _____

1. Να κάνετε τις παρακάτω προσθέσεις

$$\begin{array}{r} 1) \quad 259 \\ + \quad 65 \\ \hline \end{array}$$

$$\begin{array}{r} 2) \quad 17 \\ + \quad 508 \\ \hline \end{array}$$

$$\begin{array}{r} 3) \quad 954 \\ + \quad 72 \\ \hline \end{array}$$

$$\begin{array}{r} 4) \quad 90 \\ + \quad 350 \\ \hline \end{array}$$

$$\begin{array}{r} 5) \quad 628 \\ + \quad 84 \\ \hline \end{array}$$

$$\begin{array}{r} 6) \quad 816 \\ + \quad 25 \\ \hline \end{array}$$

$$\begin{array}{r} 7) \quad 49 \\ + \quad 173 \\ \hline \end{array}$$

$$\begin{array}{r} 8) \quad 789 \\ + \quad 54 \\ \hline \end{array}$$

$$\begin{array}{r} 9) \quad 37 \\ + \quad 975 \\ \hline \end{array}$$

$$\begin{array}{r} 10) \quad 432 \\ + \quad 68 \\ \hline \end{array}$$

$$\begin{array}{r} 11) \quad 318 \\ + \quad 19 \\ \hline \end{array}$$

$$\begin{array}{r} 12) \quad 526 \\ + \quad 78 \\ \hline \end{array}$$

$$\begin{array}{r} 13) \quad 876 \\ + \quad 43 \\ \hline \end{array}$$

$$\begin{array}{r} 14) \quad 190 \\ + \quad 85 \\ \hline \end{array}$$

$$\begin{array}{r} 15) \quad 949 \\ + \quad 53 \\ \hline \end{array}$$

$$\begin{array}{r} 16) \quad 27 \\ + \quad 695 \\ \hline \end{array}$$

$$\begin{array}{r} 17) \quad 389 \\ + \quad 15 \\ \hline \end{array}$$

$$\begin{array}{r} 18) \quad 36 \\ + \quad 999 \\ \hline \end{array}$$

$$\begin{array}{r} 19) \quad 268 \\ + \quad 61 \\ \hline \end{array}$$

$$\begin{array}{r} 20) \quad 765 \\ + \quad 70 \\ \hline \end{array}$$

2. Να λύσετε τα παρακάτω προβλήματα


1. Η Γιώτα στο κολύμπι έκανε το πρόσθιο σε 128 δευτερόλεπτα και το ύπτιο σε 86 δευτερόλεπτα. Πόσο χρόνο έκανε συνολικά;




2. Το μαγαζί του κύριου Τάκη πούλησε τον Ιανουάριο 195 καπέλα και 57 καπέλα τον Φεβρουάριο. Πόσα καπέλα πούλησε συνολικά τους δύο μήνες;



3. Ο Μιχάλης έχει στον κουμπαρά του 323 ευρώ ενώ ο Θάνος έχει 87 ευρώ περισσότερα από τον Μιχάλη. Πόσα χρήματα έχει ο Θάνος στον κουμπαρά του;



4. Η Λουίζα έχει διαβάσει μέχρι στιγμής 249 σελίδες από το βιβλίο της. Της έχουν απομείνει 163 σελίδες για να το τελειώσει. Πόσες σελίδες έχει συνολικά το βιβλίο;



3. Να κάνετε τις παρακάτω αφαιρέσεις

$$\begin{array}{r} 1) \quad 329 \\ - \quad 85 \\ \hline \end{array}$$

$$\begin{array}{r} 2) \quad 516 \\ - \quad 48 \\ \hline \end{array}$$

$$\begin{array}{r} 3) \quad 154 \\ - \quad 92 \\ \hline \end{array}$$

$$\begin{array}{r} 4) \quad 426 \\ - \quad 73 \\ \hline \end{array}$$

$$\begin{array}{r} 5) \quad 407 \\ - \quad 56 \\ \hline \end{array}$$

$$\begin{array}{r} 6) \quad 915 \\ - \quad 61 \\ \hline \end{array}$$

$$\begin{array}{r} 7) \quad 356 \\ - \quad 24 \\ \hline \end{array}$$

$$\begin{array}{r} 8) \quad 728 \\ - \quad 70 \\ \hline \end{array}$$

$$\begin{array}{r} 9) \quad 311 \\ - \quad 85 \\ \hline \end{array}$$

$$\begin{array}{r} 10) \quad 756 \\ - \quad 32 \\ \hline \end{array}$$

$$\begin{array}{r} 11) \quad 326 \\ - \quad 63 \\ \hline \end{array}$$

$$\begin{array}{r} 12) \quad 135 \\ - \quad 54 \\ \hline \end{array}$$

$$\begin{array}{r} 13) \quad 397 \\ - \quad 98 \\ \hline \end{array}$$

$$\begin{array}{r} 14) \quad 759 \\ - \quad 63 \\ \hline \end{array}$$

$$\begin{array}{r} 15) \quad 465 \\ - \quad 48 \\ \hline \end{array}$$

$$\begin{array}{r} 16) \quad 659 \\ - \quad 39 \\ \hline \end{array}$$

$$\begin{array}{r} 17) \quad 794 \\ - \quad 13 \\ \hline \end{array}$$

$$\begin{array}{r} 18) \quad 125 \\ - \quad 97 \\ \hline \end{array}$$

$$\begin{array}{r} 19) \quad 623 \\ - \quad 64 \\ \hline \end{array}$$

$$\begin{array}{r} 20) \quad 371 \\ - \quad 35 \\ \hline \end{array}$$

4. Να λύσετε τα παρακάτω προβλήματα

1. Η Στέλλα έχει στη συλλογή της 135 αυτοκόλλητα. Η Ηρώ έχει 38 αυτοκόλλητα λιγότερα από τη Στέλλα. Πόσα αυτοκόλλητα έχει η Ηρώ;



2. Ο Πέτρος δανείστηκε 35 ευρώ από τον αδερφό του. Αν ο αδερφός του είχε αρχικά 103 ευρώ, πόσα ευρώ του έμειναν;



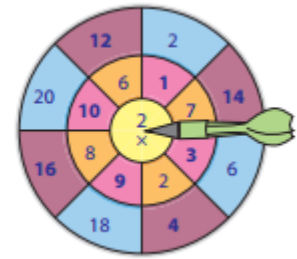
3. Η μητέρα διαβάζει ένα μυθιστόρημα που έχει 545 σελίδες. Μέχρι στιγμής έχει διαβάσει τις 189 σελίδες. Πόσες σελίδες έχει ακόμα να διαβάσει για να ολοκληρώσει το βιβλίο της;



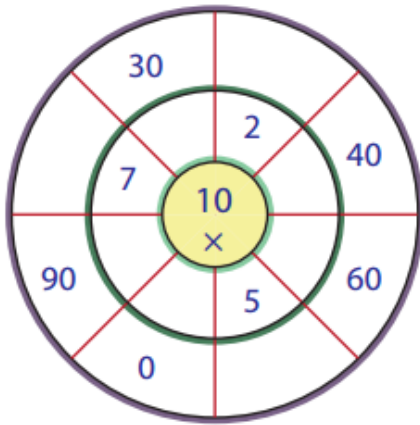
4. Ο κύριος Μάκης υπολόγισε ότι για τη σκεπή του σπιτιού του χρειάζεται 4.370 κεραμίδια. Έχει αγοράσει τα 3.500 κεραμίδια. Πόσα κεραμίδια πρέπει να αγοράσει ακόμα;



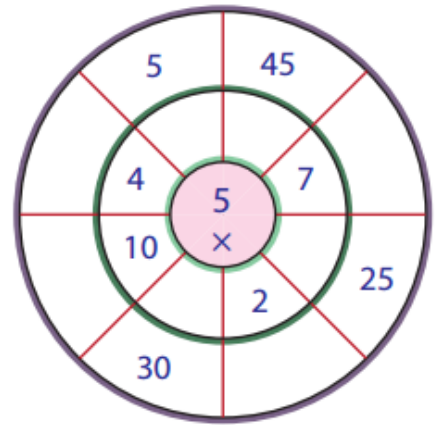
ΠΟΛΥΠΛΑΣΙΑΣΜΟΣ



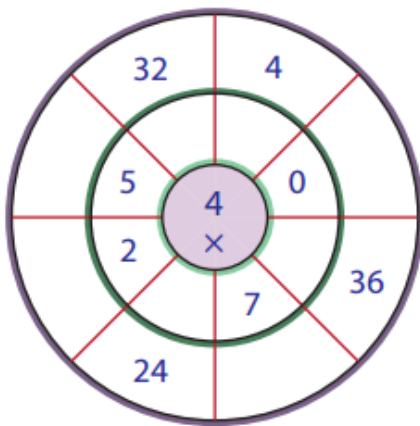
1)



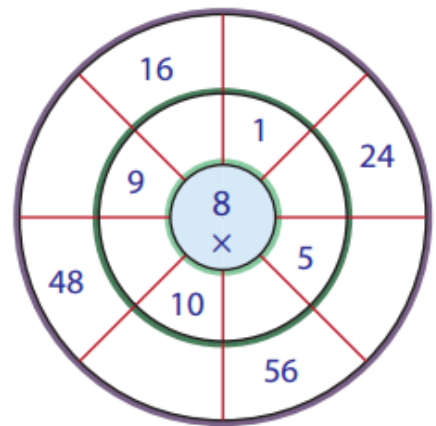
2)



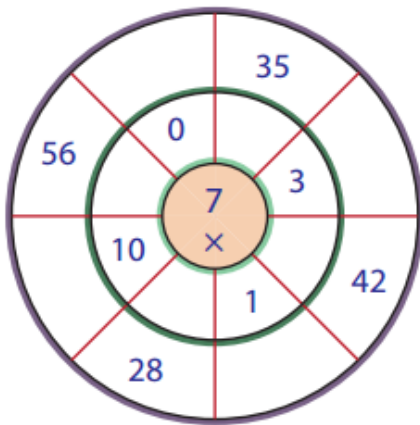
3)



4)



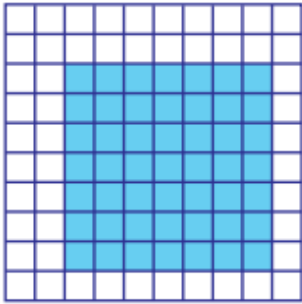
5)



6)

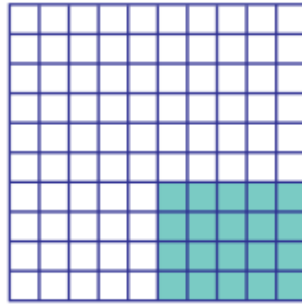


1)




___ × ___ = ___

2)




___ × ___ = ___

3)



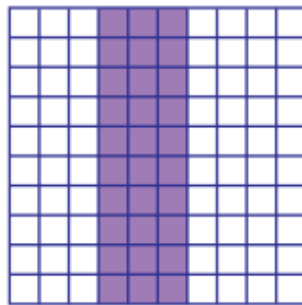
___ × ___ = ___

4)



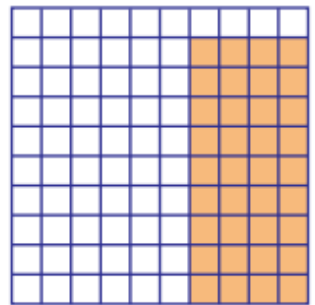
___ × ___ = ___

5)



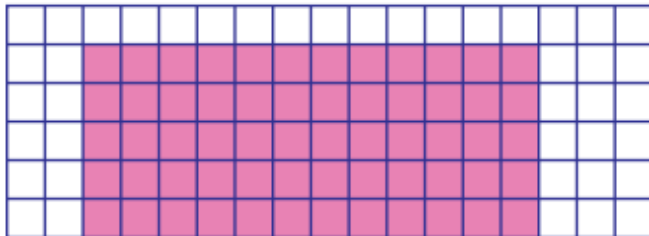
___ × ___ = ___

6)



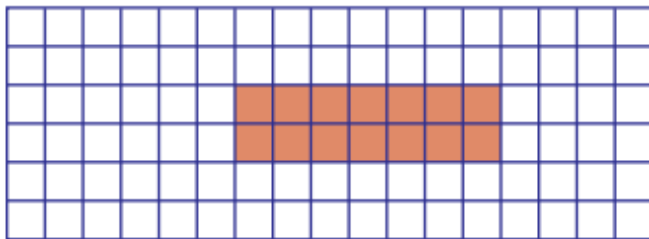
___ × ___ = ___

7)




___ × ___ = ___

9)



___ × ___ = ___

8)



___ × ___ = ___