

ΦΕ1: ΤΟ ΘΕΡΜΟΜΕΤΡΟ



Πολλές φορές εκτιμάμε τη θερμοκρασία με τις αισθήσεις μας. Ακουμπάμε κάποιον στο μέτωπο, για να καταλάβουμε αν έχει πυρετό. Πλησιάζουμε τα χέρια στον φούρνο, για να καταλάβουμε αν λειτουργεί. Από το χρώμα ενός μετάλλου μπορούμε κάποιες φορές να καταλάβουμε αν είναι πολύ ζεστό. Είναι όμως η εντύπωση που σχηματίζουμε πάντα σωστή;



Γέμισε τρεις λεκάνες με νερό. Στην πρώτη βάλε κρύο, στη δεύτερη χλιαρό και στην τρίτη ζεστό νερό. Βάλε το ένα σου χέρι στη λεκάνη με το κρύο και το άλλο σ' αυτή με το ζεστό νερό. Μετά από λίγο βύθισε και τα δύο χέρια σου στη λεκάνη με το χλιαρό νερό. Τι παρατηρείς;


Παρατήρηση

Με το χέρι που είχα στο ζεστό νερό αισθάνθηκα το χλιαρό νερό κρύο, ενώ με το χέρι που είχα στο κρύο νερό αισθάνθηκα το χλιαρό νερό ζεστό.



Συμπέρασμα

Η εκτίμηση της θερμοκρασίας με την αίσθηση της αφής δεν είναι ακριβής




Για να μετρήσουμε τη θερμοκρασία με ακρίβεια, χρησιμοποιούμε ειδικά όργανα, τα θερμόμετρα. Στις εικόνες βλέπεις έναν γνωστό τύπο θερμομέτρων, στα οποία η ένδειξη δίνεται από κάποιο υγρό. Συνήθως χρησιμοποιούμε υδράργυρο ή χρωματισμένο οινόπνευμα. Τα θερμόμετρα υδραργύρου και τα θερμόμετρα οινόπνευματος μπορεί να περιέχουν διαφορετικό υγρό και να έχουν διαφορετικό σχήμα, έχουν όμως όλα:

1. μικρό δοχείο με υγρό
2. λεπτό σωληνάκι
3. κλίμακα



Θερμόμετρο υδραργύρου

Θερμόμετρο οινόπνευματος



Βάλε μερικά παγάκια σε ένα δοχείο με λίγο νερό. Ανακάτεψε καλά με ένα μολύβι. Αν λιώσουν όλα τα παγάκια, πρόσθεσε μερικά ακόμη, ώστε να υπάρχουν στο ποτήρι συγχρόνως παγάκια και νερό. Χρησιμοποιώντας το θερμόμετρο, μέτρησε τη θερμοκρασία του πάγου που λιώνει.



0 1 2 3 4 5 6 7 8 9 10 11 12 13 14

Πείραμα

Η δασκάλα ή ο δάσκαλός σου βράζει νερό σε ένα δοχείο. Με ένα θερμόμετρο μετρά τη θερμοκρασία του νερού που βράζει.



Παρατήρηση

Η θερμοκρασία που μετρήσαμε είναι $102\text{ }^{\circ}\text{C}$



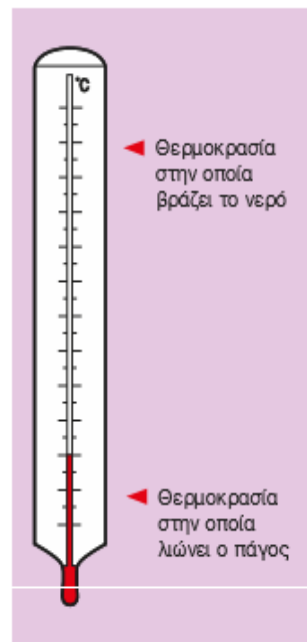
Συμπέρασμα

Με τη βοήθεια της δασκάλας ή του δασκάλου σου συμπλήρωσε την κλίμακα Celsius στο θερμόμετρο.

Τι θερμοκρασία δείχνει το θερμόμετρο στο σκίτσο; _____ $^{\circ}\text{C}$.

Μπορείς τώρα να περιγράψεις με λίγα λόγια τον τρόπο με τον οποίο εργάστηκε ο Celsius;

Ο Celsius τοποθέτησε ένα θερμόμετρο σε ένα δοχείο με καθαρό νερό και παγάκια. Στο σημείο που ήταν η στάθμη του υγρού στο θερμόμετρο σημείωσε τον αριθμό 0. Στη συνέχεια τοποθέτησε το θερμόμετρο σε ένα δοχείο με νερό που έβραζε και σημείωσε τον αριθμό 100. Μετά χώρισε το διάστημα αυτό από το 0 έως το 100, σε 100 ίσα μέρη και ονόμασε κάθε μέρος ένα βαθμό.





ΕΡΓΑΣΙΕΣ ΓΙΑ ΤΟ ΣΠΙΤΙ

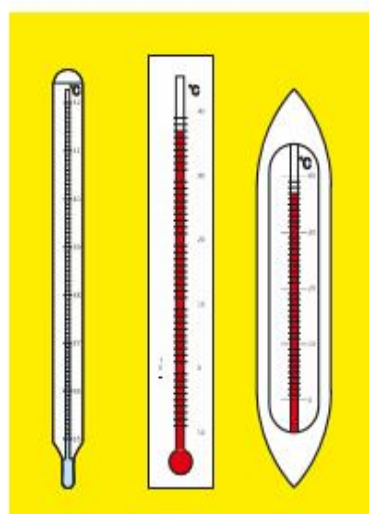
1. Μπορούμε να εκτιμήσουμε με τις αισθήσεις μας τη θερμοκρασία, έστω και με μικρή ακρίβεια, σε όλες τις περιπτώσεις; Μπορείς να εξηγήσεις την απάντησή σου;

Δεν μπορούμε να εκτιμούμε πάντα τη θερμοκρασία με τις αισθήσεις μας. Είναι, για παράδειγμα, επικίνδυνο να αγγίζουμε αντικείμενα που έχουν πολύ υψηλή ή πολύ χαμηλή θερμοκρασία.



2. Στα θερμόμετρα της φωτογραφίας η στάθμη του υγρού δεν είναι στο ίδιο ύψος. Δείχνουν τα θερμόμετρα διαφορετική θερμοκρασία; Μπορείς να εξηγήσεις την απάντησή σου;

Όλα τα θερμόμετρα δείχνουν 37°C . Η κλίμακα των θερμομέτρων είναι διαφορετική. σημασία έχει σε ποιον αριθμό βρίσκεται η στάθμη του υγρού και όχι σε ποιο ύψος.



3. Ο Γιάννης και ο Νίκος θέλουν να μετρήσουν τη θερμοκρασία του εδάφους. Ποιος από τους δύο εργάζεται λανθασμένα; Ποιο είναι το λάθος που κάνει;

Ο Γιάννης εργάζεται λανθασμένα, διότι δεν έχει τοποθετήσει το θερμόμετρο έτσι, ώστε το μικρό δοχείο με το υγρό να καλύπτεται τελείως από το χώμα.

