

ΦΕ3: ΠΟΤΕ ΑΝΑΒΕΙ ΤΟ ΛΑΜΠΑΚΙ;



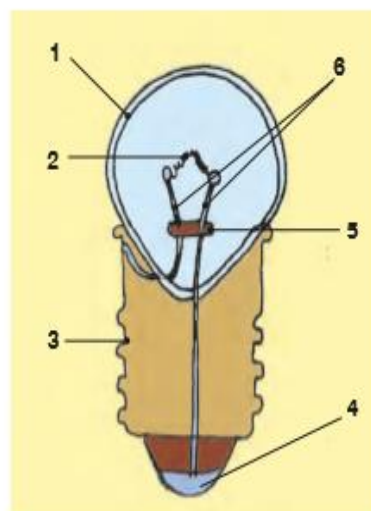
Στην εικόνα βλέπεις δύο λαμπάκια για διαφορετικές λυχνιολαβές:

1. λαμπάκι μπαγιονέτ
2. βιδωτό λαμπάκι

Τα λαμπάκια είναι όμοια με τις λάμπες που χρησιμοποιείς στο σπίτι, λειτουργούν όμως με ενέργεια από μπαταρίες. Παρατήρησε προσεκτικά με έναν μεγεθυντικό φακό το λαμπάκι ενός φακού. Πότε ανάβει το λαμπάκι;

Στην εικόνα βλέπεις την τομή από ένα λαμπάκι. Με τη βοήθεια της δασκάλας ή του δασκάλου σου σημείωσε τα διάφορα μέρη του:

1. γυαλί
2. λεπτό συρματάκι από βολφράμιο
3. επαφή
4. επαφή
5. στήριγμα από πορσελάνη ή γυαλί
6. σιδεράκια που στηρίζουν το συρματάκι

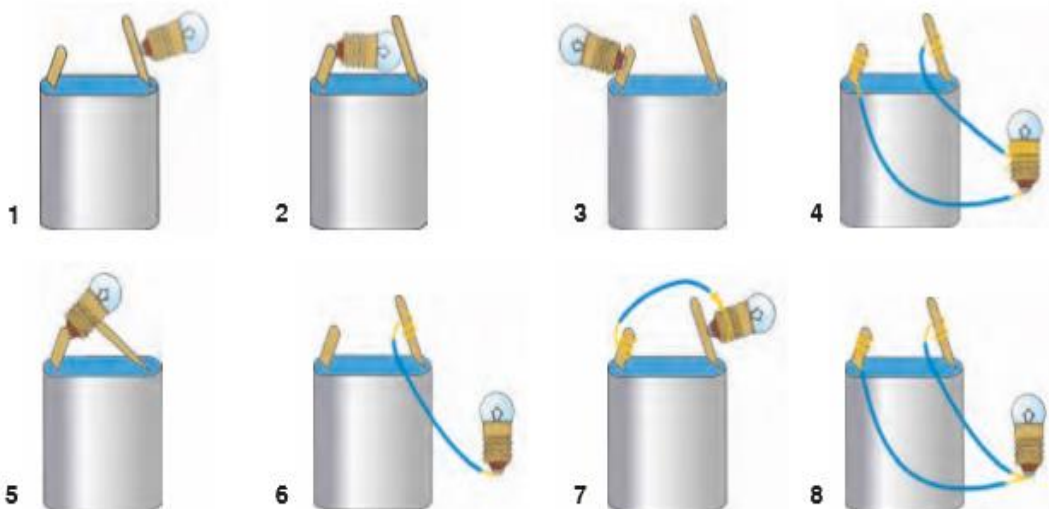


Για να ανάψει το λαμπάκι, πρέπει να το συνδέσεις σε μία ηλεκτρική πηγή. Στα πειράματά σου θα χρησιμοποιείς ως ηλεκτρική πηγή την μπαταρία. Παρατήρησε την μπαταρία στην εικόνα και σημείωσε τους δύο πόλους της.



0 1 2 3 4 5 6 7 8 9 10 11 12 13 14

Πείραμα



Όργανα - Υλικά

καλώδιο
μπαταρία
λαμπάκι
ψαλίδι

Με το ψαλίδι κόψε δύο κομμάτια από το καλώδιο με μήκος περίπου 30 εκατοστά και αφάιρεσε προσεκτικά το πλαστικό από τις δύο άκρες τους.

Δοκίμασε με ποιον από τους 8 τρόπους σύνδεσης θα ανάψει το λαμπάκι.

Παρατήρηση

Το λαμπάκι ανάβει: 4,5,7

Το λαμπάκι δεν ανάβει: 1, 2, 3, 6, 8

Συμπέρασμα

Το λαμπάκι ανάβει μόνο όταν η μία επαφή του συνδέεται με καλώδιο με τον ένα πόλο της μπαταρίας και η άλλη του επαφή με τον άλλο πόλο της μπαταρίας.




Συμπλήρωσε το συμπέρασμα χρησιμοποιώντας τις λέξεις: •λαμπάκι •επαφή •μπαταρία
•πόλος •καλώδιο



ΕΡΓΑΣΙΕΣ ΓΙΑ ΤΟ ΣΠΙΤΙ

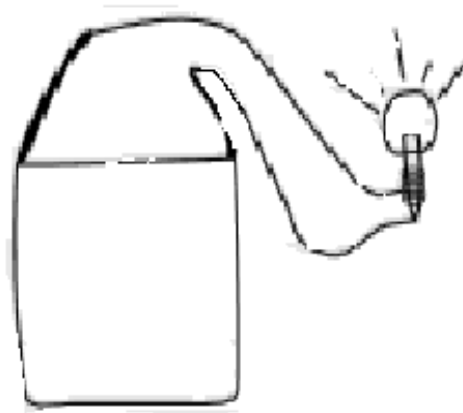
1. Σημείωσε τις επαφές σε καθένα από τα λαμπάκια της εικόνας.



2. Σημείωσε τους πόλους σε καθεμία από τις μπαταρίες της εικόνας.



3. Σχεδιάσε μία μπαταρία κι ένα λαμπάκι. Σχεδιάσε ακόμη δύο καλώδια, που να συνδέουν την μπαταρία με το λαμπάκι, έτσι ώστε αυτό να φωτίζει.



4. Όταν μία λάμπα δε λειτουργεί, λέμε ότι έχει «καεί». Γιατί νομίζεις ότι χρησιμοποιούμε αυτήν την έκφραση;

Λέμε ότι η λάμπα έχει "καεί" όταν έχει κοπεί το λεπτό συρματάκι από το βολφράμιο.

