
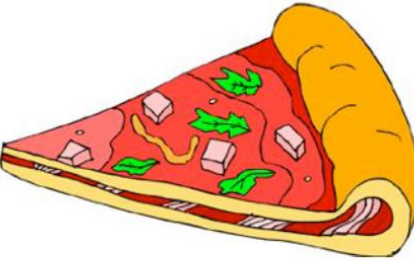









Όνομα: _____ Ημερομηνία: _____

1. Παρατήρησε τις παρακάτω εικόνες και γράψε ποιο γεωμετρικό σχήμα ή στερεό σου θυμίζουν

		
<hr/> <hr/> <hr/>	<hr/> <hr/> <hr/>	<hr/> <hr/> <hr/>
		
<hr/> <hr/> <hr/>	<hr/> <hr/> <hr/>	<hr/> <hr/> <hr/>
		
<hr/> <hr/> <hr/>	<hr/> <hr/> <hr/>	<hr/> <hr/> <hr/>