



Λύνω σύνθετα προβλήματα (β)

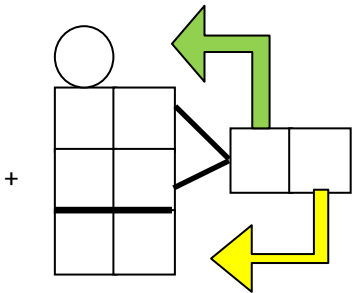
Όνομα: _____

1. Ένας σκίουρος στο δάσος μάζεψε βελανίδια από 2 βελανιδιές. Από την πρώτη μάζεψε 16 βελανίδια και από τη δεύτερη 9 περισσότερα από την πρώτη. Πόσα βελανίδια μάζεψε συνολικά;


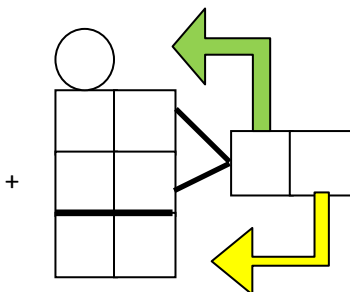


ΛΥΣΗ

1^ο βήμα: Πόσα βελανίδια έχει η δεύτερη βελανιδιά;



2^ο βήμα: Πόσα βελανίδια έχουν και οι δύο βελανιδιές μαζί;

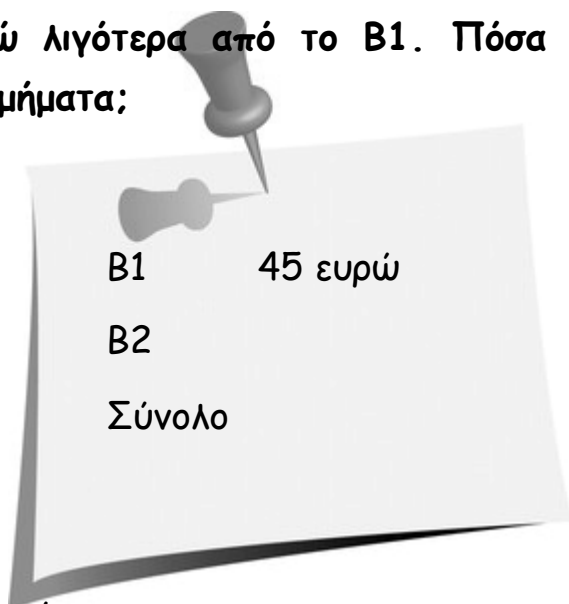



ΑΠΑΝΤΗΣΗ: _____

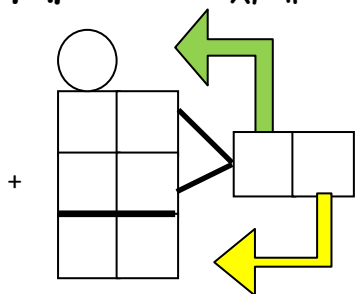
2. Στο σχολείο συγκεντρώσαμε χρήματα για φιλανθρωπικό σκοπό. Το Β1 συγκέντρωσε 45 ευρώ και το Β2 7 ευρώ λιγότερα από το Β1. Πόσα χρήματα συγκεντρώθηκαν και από τα δύο τμήματα;

ΛΥΣΗ

1° βήμα: Πόσα χρήματα συγκέντρωσε το Β2;



2° βήμα: Πόσα χρήματα συγκέντρωσαν και τα δύο τμήματα;

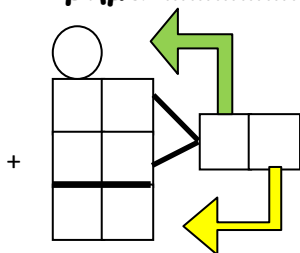


ΑΠΑΝΤΗΣΗ: _____

3. Η κυρία Σοφία αγόρασε 1 τσάντα και 1 πουκάμισο. Έδωσε 100 ευρώ.
Πόσα ρέστα πήρε;

ΛΥΣΗ

1° βήμα:



2° βήμα:

