





Γνωρίζω τα χαρτονομίσματα των 5, 10, 20, 50 και 100 ευρώ


Όνομα: _____

1. Πόσα ευρώ είναι τα παρακάτω χρήματα:

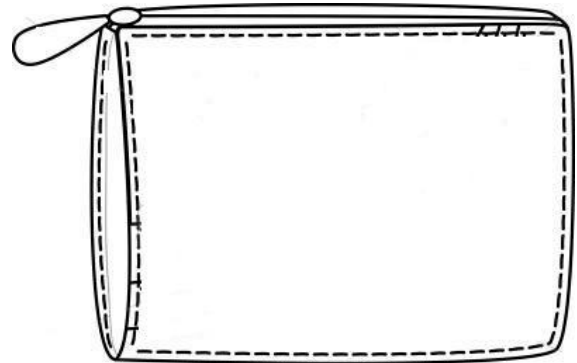


2. Η Δανάη έχει 90 ευρώ. Η Τασία έχει 40 ευρώ λιγότερα από τη Δανάη.
Πόσα χρήματα έχει η Τασία;

ΖΩΓΡΑΦΙΣΩ



Δανάη



Τασία

ΛΥΣΗ

ΑΠΑΝΤΗΣΗ

3. Βάλε τα χρήματα στη σειρά ξεκινώντας από αυτό με τη μικρότερη αξία



..... < < < <