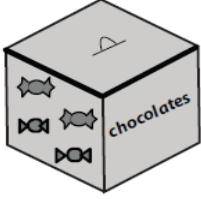
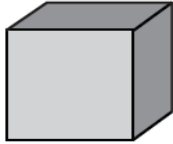

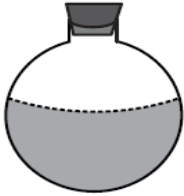





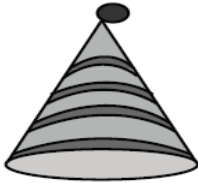





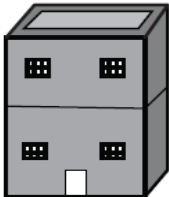




Γεωμετρικά σχήματα-Γεωμετρικά στερεά

Όνομα: _____

1. Σχεδίασε δίπλα από κάθε αντικείμενο το αντίστοιχο γεωμετρικό στερεό και έπειτα γράψε το όνομά του.

2. Ζωγράφισε με κίτρινο όλα τα γεωμετρικά στερεά και με γαλάζιο τα γεωμετρικά σχήματα

