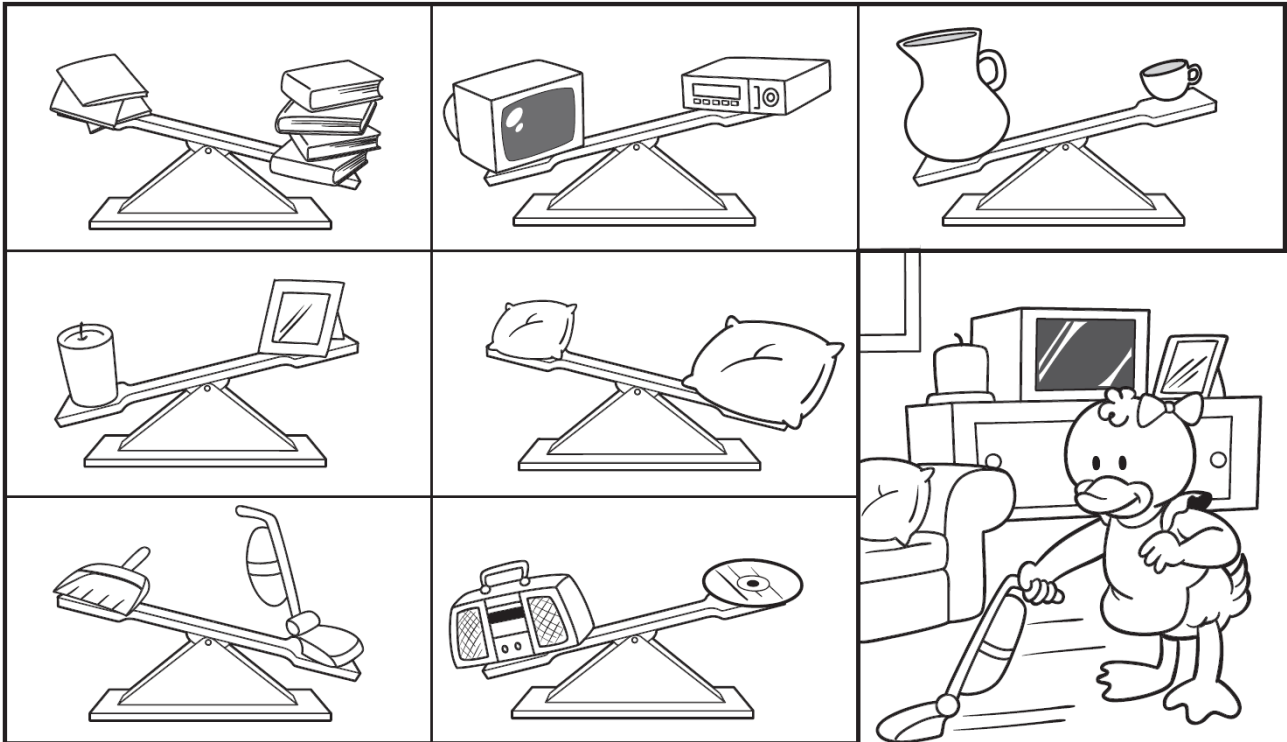


# Μετρώ το βάρος: Το κιλό και το γραμμάριο

Όνομα: \_\_\_\_\_

1. Χρωμάτισε τα πιο ελαφριά αντικείμενα πάνω στις ζυγαριές



2. Ένα κιλό ντομάτες κοστίζει 2 ευρώ. Πόσα ευρώ κοστίζουν τα 6 κιλά ντομάτες;

ΛΥΣΗ

ΖΩΓΡΑΦΙΣΩ

ΑΠΑΝΤΗΣΗ \_\_\_\_\_

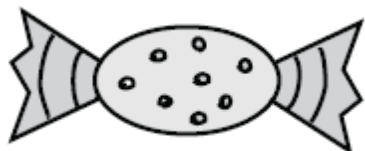
3. Εκτίμησε το βάρος κάθε αντικειμένου. Κύκλωσε το σωστό.




8 κιλά    800 γραμ.    80 γραμ.



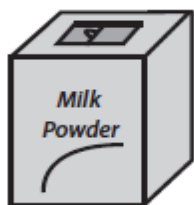
70 γραμ.    700 γραμ.    7 κιλά



40 γραμ.    4κιλά    4 γραμ.



5 γραμ.    5 κιλά    500 γραμ.



600 γραμ.    60 γραμ.    6 κιλά



10 γραμ.    100 γραμ.    10 κιλά