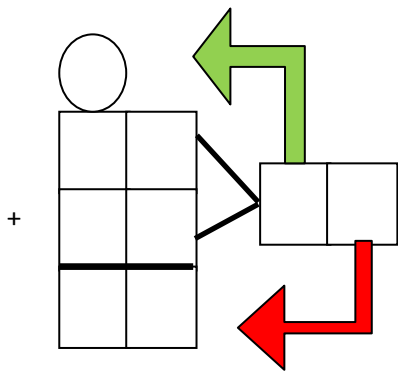


Υπολογίζω ένα αποτέλεσμα και ελέγχω με κάθετη αφαίρεση με δανεικό

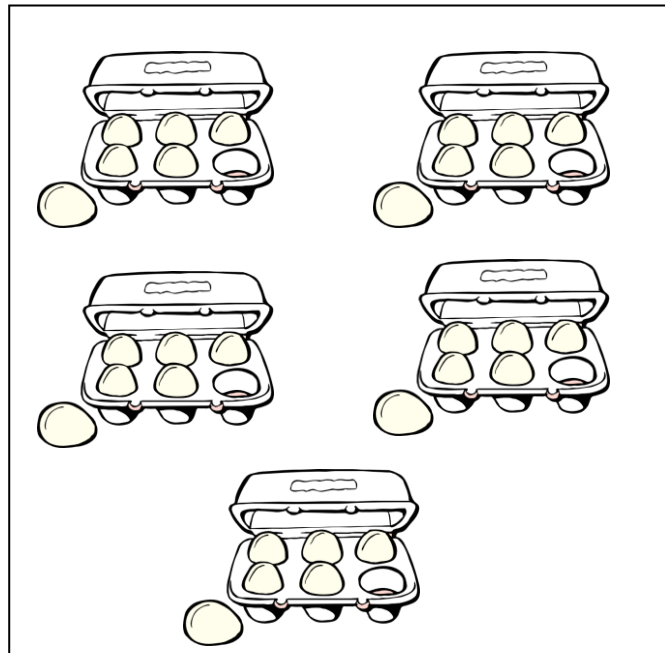
Όνομα: _____

1. Ο Πέτρος αγόρασε 12 αυγά. Ο Γιάννης αγόρασε 18 αυγά.
Πόσα αυγά έχουν και τα δύο παιδιά μαζί;


ΛΥΣΗ



ΕΛΕΓΧΩ ΜΕ ΖΩΓΡΑΦΙΚΗ



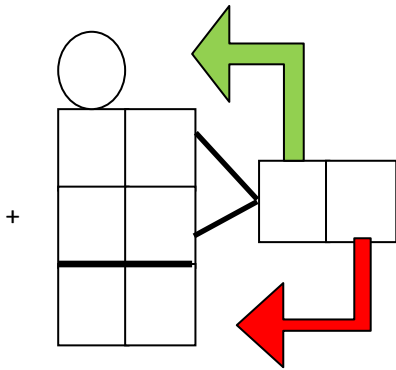
ΕΛΕΓΧΩ ΜΕ ΑΦΑΙΡΕΣΗ




ΑΠΑΝΤΗΣΗ _____

2. Η Χριστίνα έχει στη συλλογή της 46 γραμματόσημα. Η Ελένη έχει 15 περισσότερα. Πόσα γραμματόσημα έχει η Ελένη;


ΛΥΣΗ



ΕΛΕΓΧΩ ΜΕ ΖΩΓΡΑΦΙΚΗ



ΕΛΕΓΧΩ ΜΕ ΑΦΑΙΡΕΣΗ



ΑΠΑΝΤΗΣΗ _____