






Λύνω προβλήματα με μεγάλους αριθμούς

Όνομα: _____


1. Ο Θάνος έχει στον κουμπαρά του 200 ευρώ. Η Νίκη έχει 255 ευρώ και ο Μιχάλης έχει 25 ευρώ περισσότερα από τον Θάνο. Πόσα χρήματα έχουν και τα τρία παιδιά;




ΛΥΣΗ

ΑΠΑΝΤΗΣΗ _____


2. Πόσα κιλά ζυγίζουν όλα τα ζώα μαζί;



290 κιλά



455 κιλά



180 κιλά

ΛΥΣΗ

ΑΠΑΝΤΗΣΗ _____