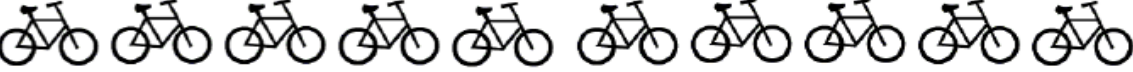


## Διαιρέσεις


Όνομα:.....


1. Κάνε τις παρακάτω διαιρέσεις με την βοήθεια των εικόνων


	$12 \div 3 = \square$
--	-----------------------


	$10 \div 2 = \square$
--	-----------------------

	$9 \div 3 = \square$
--	----------------------

	$8 \div 2 = \square$
--	----------------------

	$6 \div 3 = \square$
--	----------------------

	$4 \div 2 = \square$
---	----------------------

	$3 \div 1 = \square$
---	----------------------