

Φτιάχνω τριψήφιους αριθμούς και τους συγκρίνω

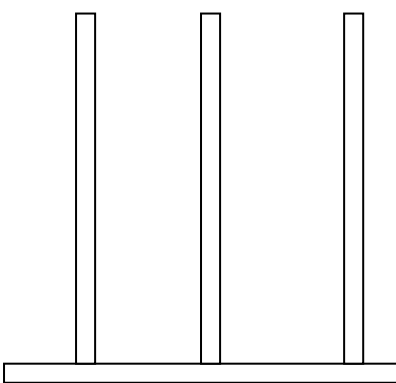
Όνομα: _____



1. Συμπλήρωσε τον παρακάτω πίνακα

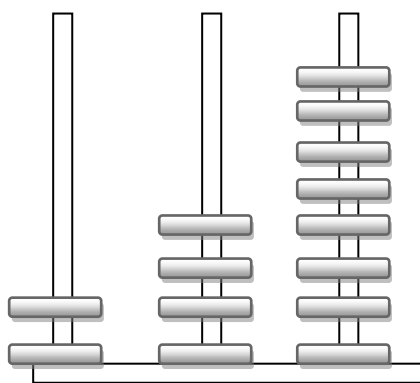
Με αριθμούς	Με λέξεις	Ε Μ Δ
320		
		5 Ε 8 Δ 1 Μ
	Εφτακόσια πενήντα	
932		
	Τριακόσια δύο	
		8 Ε 3 Δ 8 Μ

2. Ποιος αριθμός είναι; Συμπλήρωσε τους άβακες

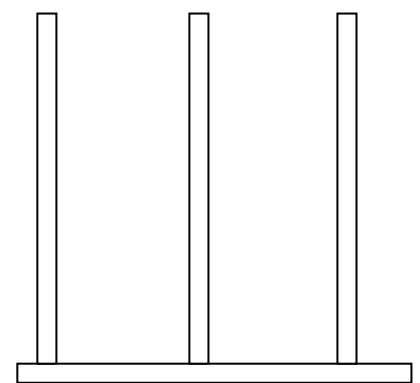


Ε Δ Μ

731




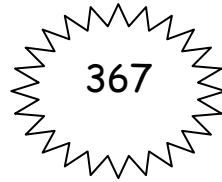


Ε Δ Μ



Ε Δ Μ

575

3. Βάλε τους αριθμούς στη σειρά ξεκινώντας από τον μικρότερο



..... < < < <

4. Γράψε τον προηγούμενο και τον επόμενο αριθμό

..... 500

..... 289

..... 699

..... 340

..... 568

..... 999

5. Ανέλυσε τους παρακάτω αριθμούς, όπως το παράδειγμα

$235 = 200 + 30 + 5$	$977 =$
$457 =$	$560 =$
$341 =$	$201 =$
$789 =$	$406 =$
$841 =$	$919 =$