

Οι αριθμοί μέχρι το 1.000

Όνομα:.....

1. Ανεβαίνω 100- 100 μέχρι το 1.000

□	□	□	□	□	□	□	□	□	□
---	---	---	---	---	---	---	---	---	---

2. Κατεβαίνω 100- 100 μέχρι το 1.000


□	□	□	□	□	□	□	□	□	□
---	---	---	---	---	---	---	---	---	---

3. Γράφω τους αριθμούς με ψηφία

Πεντακόσια είκοσι ένα=	Διακόσια τρία=
Εννιακόσια ενενήνα εννιά=	Εννιακόσια δύο=
Εφτακόσια τριάντα=	Εφτακόσια σαράντα πέντε=
Τριακόσια εβδομήντα οχτώ=	Οχτακόσια είσοσι εννιά=
Διακόσια ογδόντα=	Τετρακόσια πενήντα εφτά=
Ενατό πέντε=	Τριακόσια δύο=

4. Γράφω τους αριθμούς με λέξεις

906=
548=
168=
1.000=
397=
709=



5. Να συμπληρώσετε τα κουτάκια βάζοντας το προηγούμενο και τον επόμενο αριθμό

□	600	□	□	567	□
□	799	□	□	400	□
□	303	□	□	999	□

6. Να αναλύσετε και να συνθέσετε τους παρακάτω αριθμούς όπως το παράδειγμα

$$258 = 200 + 50 + 8$$

$$300 + 60 + 8 = 368$$

$$894 = \dots\dots\dots$$

$$200 + 40 + 1 = \dots\dots\dots$$

$$571 = \dots\dots\dots$$

$$900 + 50 + 4 = \dots\dots\dots$$

$$903 = \dots\dots\dots$$

$$300 + 6 = \dots\dots\dots$$

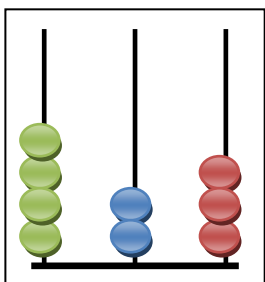
$$622 = \dots\dots\dots$$

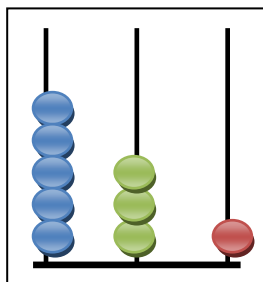
$$500 + 10 + 4 = \dots\dots\dots$$

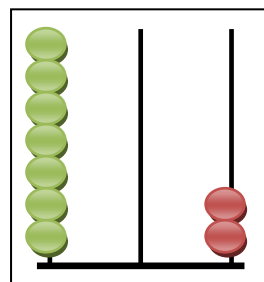
7. Να βάλετε τους αριθμούς από τον μικρότερο στο μεγαλύτερο

309, 674, 109, 708, 999, 100, 780, 647

8. Γράφω τους αριθμούς που δείχνουν οι άβακες







9. Σχηματίζω τους παρακάτω αριθμούς στους άβακες

