

Μέτρηση μάζας

Όνομα:.....

1. Βοήθησε τον κάθε σκύλο να πάρει το σωστό κόκαλο. Κάνε την αντιστοίχιση



5 κιλά

5 τόνοι

7 κιλά

7 τόνοι

3,2 τόνοι

3,2 κιλά

5.000
κιλά

5.000
γραμ.

7.000
κιλά

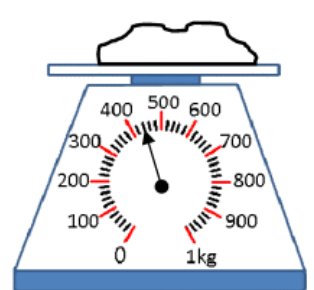
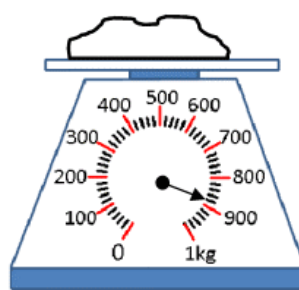
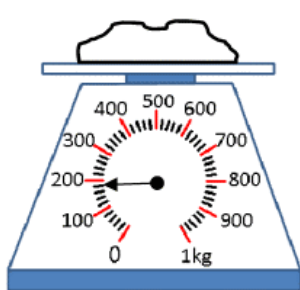
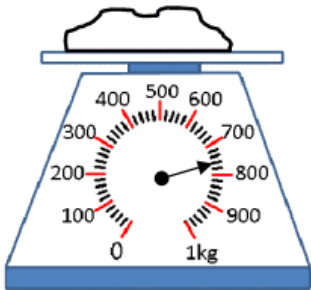
3.200
γραμ.

7.000
γραμ.

3.200
κιλά



2. Σημείωσε τι δείχνει σε κάθε περίπτωση η ζυγαριά



3. Μελέτησε τον παρακάτω πίνακα και έπειτα απάντησε στις παρακάτω ερωτήσεις

ζώο	βάρος
Λιοντάρι	250 κιλά
Τίγρης της Σιβηρίας	300 κιλά
Πολική αρκούδα	700 κιλά
Θαλάσσιος ελέφαντας	2.300 κιλά
Λευκός καρχαρίας	3.300 κιλά

A. ποιο ζώο έχει το μεγαλύτερο βάρος;

.....

B. ποιο ζώο έχει το μικρότερο βάρος;

.....

Γ. πόσα κιλά βαρύτερος είναι ο λευκός καρχαρίας από το θαλάσσιο ελέφαντα;

.....

Πόσα κιλά ελαφρύτερη είναι ο τίγρης της Σιβηρίας από την πολική αρκούδα;

.....

Πόσα κιλά ζυγίζουν όλα τα ζώα του πίνακα;

.....

4. Πόσα γραμμάρια πρέπει να μεταφέρουμε από τη μία πλευρά της ζυγαριάς στην άλλη ώστε να ισορροπήσει;

Λύση

Απάντηση:.....

.....

