



Επαναληπτικό διαγώνισμα στα Μαθηματικά

9^η Ενότητα

Όνομα:.....

Ημερομηνία:.....

1. Συμπλήρωσε τον αμέσως προηγούμενο και τον επόμενο των παρακάτω αριθμών

..... 9.709

..... 6.799

..... 9.999

..... 8.599

..... 7.001

..... 9.090

2. Βάλε στη σειρά τους παρακάτω αθλητές ξεκινώντας από αυτόν που έχει τον μικρότερο αριθμό



9.148



9.814



9.481





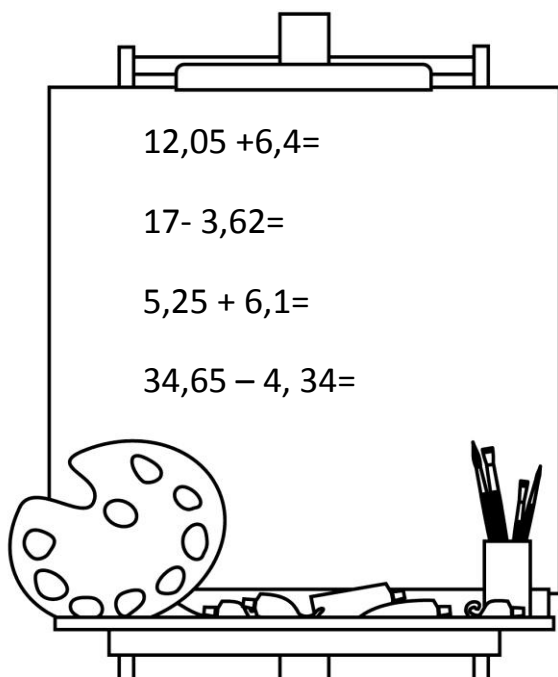
9.841



9.418

..... < < <

3. Κάνε κάθετα τις παρακάτω πράξεις



4. Συμπλήρωσε τα πηλικά και τα υπόλοιπα στις παρακάτω διαιρέσεις

$$\begin{array}{r|l} 19 & 5 \\ \hline & \end{array}$$

$$\begin{array}{r|l} 67 & 8 \\ \hline & \end{array}$$

$$\begin{array}{r|l} 34 & 7 \\ \hline & \end{array}$$

$$\begin{array}{r|l} 42 & 6 \\ \hline & \end{array}$$

$$\begin{array}{r|l} 80 & 15 \\ \hline & \end{array}$$