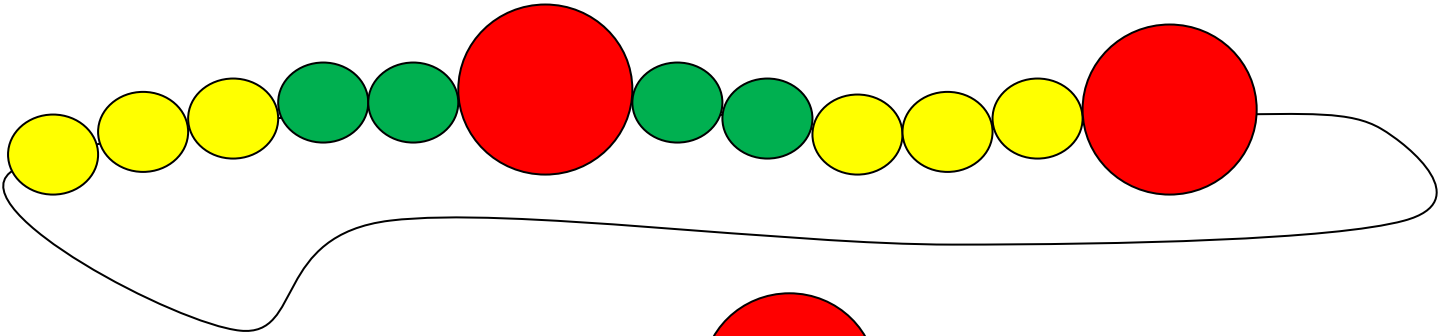





Όνομα: _____

1. Συνεχίζω το μοτίβο με τα σωστά χρώματα



Αν  = 2  = 4 και  = 10

ποια είναι η αξία του παραπάνω μοτίβου;

Υπολογίζω

τα κίτρινα

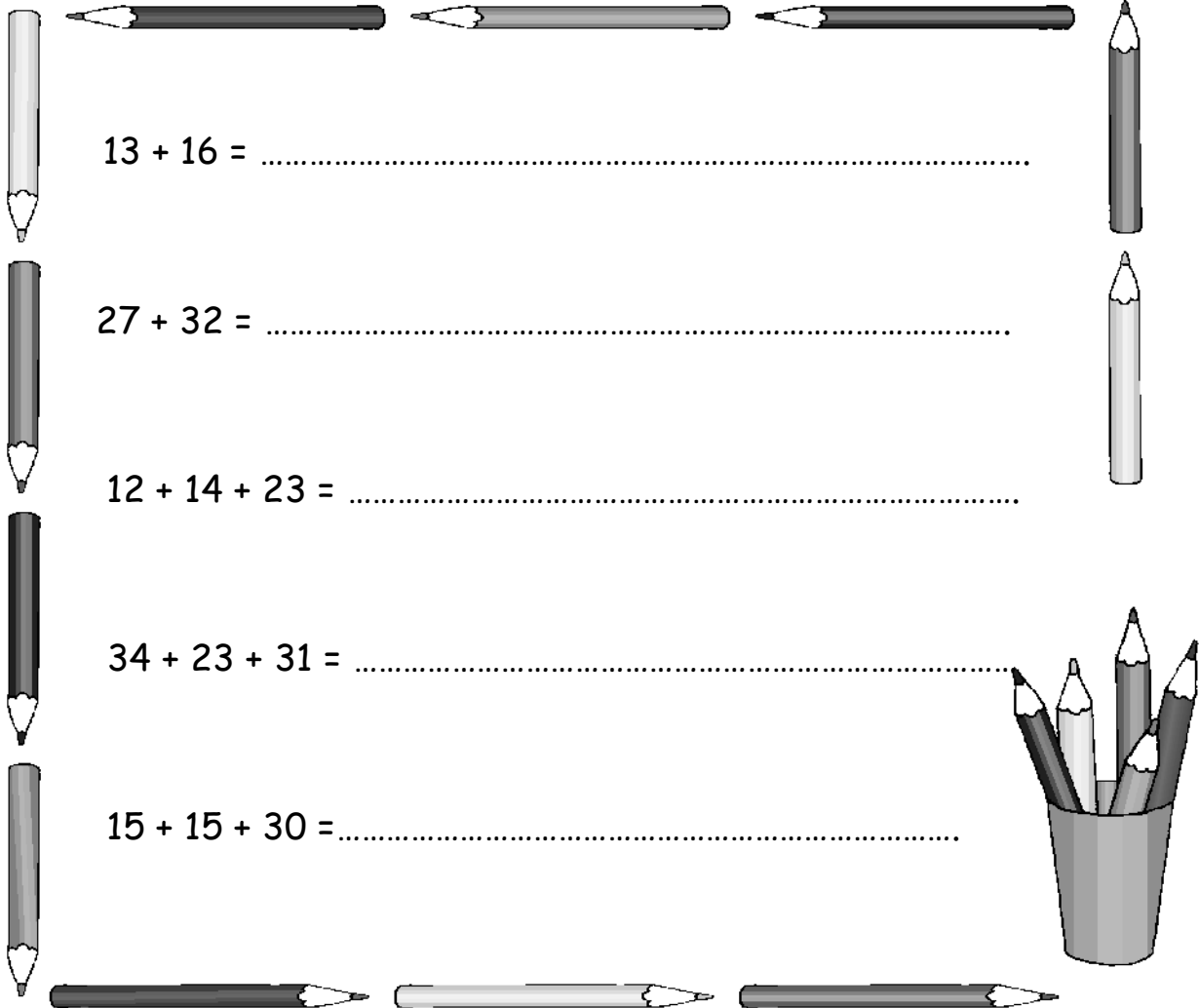
τα πράσινα

τα κόκκινα

όλα μαζί

Απάντηση _____

2. Υπολογίζω με το νου τα παρακάτω αθροίσματα



13 + 16 =

27 + 32 =

12 + 14 + 23 =

34 + 23 + 31 =

15 + 15 + 30 =

3. Το κυλικείο του σχολείου στο πρώτο διάλειμμα πούλησε 32 τυρόπιτες. Στο δεύτερο διάλειμμα 25 και στο τρίτο 5. Πόσες τυρόπιτες πούλησε συνολικά;

Υπολογίζω



Απάντηση: _____