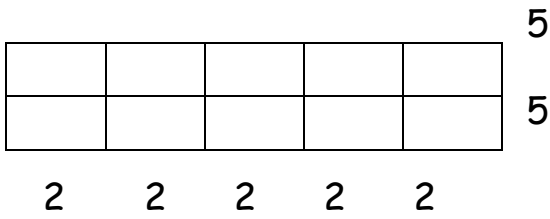


# Η προπαίδεια του 5 και του 10

Όνομα: \_\_\_\_\_

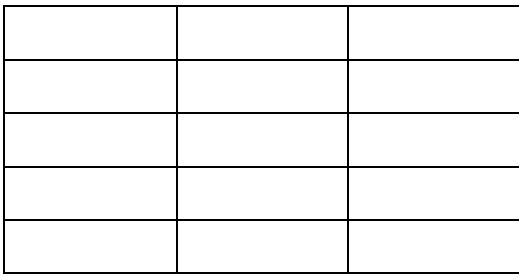
1. Δες το παράδειγμα και συνέχισε με τον ίδιο τρόπο

A.

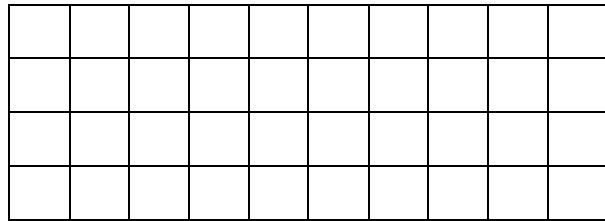


$$5 \times 2 = 10$$
$$\text{ή } 2 \times 5 = 10$$

B.



Γ.



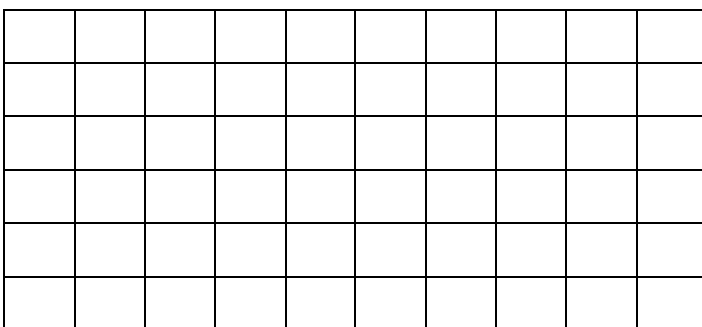
$$\underline{\quad} \times \underline{\quad} = \underline{\quad}$$

$$\underline{\quad} \times \underline{\quad} = \underline{\quad}$$

$$\text{ή } \underline{\quad} \times \underline{\quad} = \underline{\quad}$$

$$\text{ή } \underline{\quad} \times \underline{\quad} = \underline{\quad}$$

Δ.



$\underline{\quad} \times \underline{\quad} = \underline{\quad}$
$\text{ή } \underline{\quad} \times \underline{\quad} = \underline{\quad}$

2. Χρωμάτισε τα σωστά κουτάκια και γράψε τα αντίστοιχα αθροίσματα. Δες το παράδειγμα

$5 \times 4$

$5 + 5 + 5 + 5 = 20$

5	5	5	5	5	5
---	---	---	---	---	---

$6 \times 10$

.....

10	10	10	10	10	10	10	10	10	10	10
----	----	----	----	----	----	----	----	----	----	----

$5 \times 5$

.....

5	5	5	5	5	5	5	5	5	5
---	---	---	---	---	---	---	---	---	---

$9 \times 5$

.....

5	5	5	5	5	5	5	5	5	5	5	5	5
---	---	---	---	---	---	---	---	---	---	---	---	---

3. Συμπλήρωσε στους στόχους την προπαίδια του 5 και του 10

