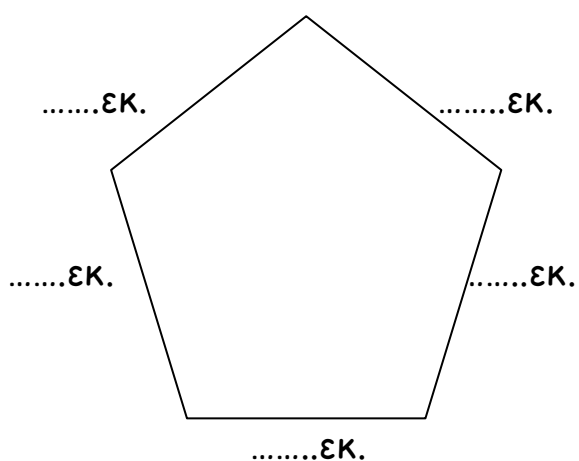


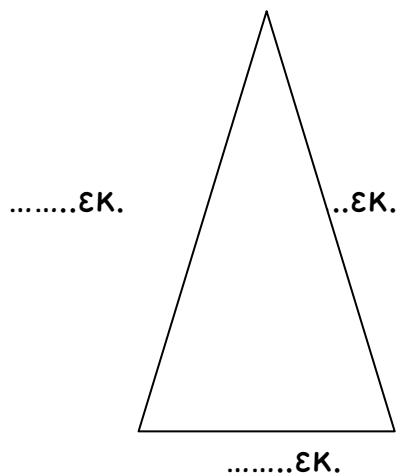
Μετρώ ευθύγραμμα τμήματα

Όνομα: _____

1. Μέτρησε με το χάρακά σου τις πλευρές κάθε σχήματος και γράψε το μήκος τους



Σχήμα Α



Σχήμα Β

Βρες τώρα την περίμετρο του κάθε σχήματος

Σχήμα Α


.....ΕΚ +ΕΚ +ΕΚ +ΕΚ +ΕΚ = εκατοστά

Σχήμα Β

.....ΕΚ +ΕΚ +ΕΚ = εκατοστά



2. Φτιάξε ένα ορθογώνιο με περίμετρο 18 εκατοστά



3. Παρατήρησε τα παρακάτω σχήματα και απάντησε στις ερωτήσεις που ακολουθούν

■				■	■		■		
■				■	■		■		
■				■	■		■	■	■
■	■			■	■			■	■
■	■								■
■	■								■

A

B

Γ

A. Ποιο σχήμα έχει τη μεγαλύτερη πλευρά;

.....

B. Ποιο σχήμα έχει την μεγαλύτερη περίμετρο;

.....

Γ. Ποιο σχήμα έχει τη μικρότερη πλευρά;

.....