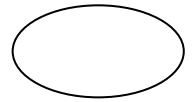
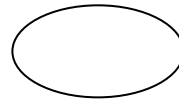
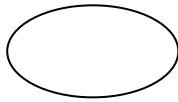
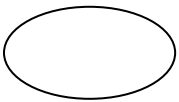
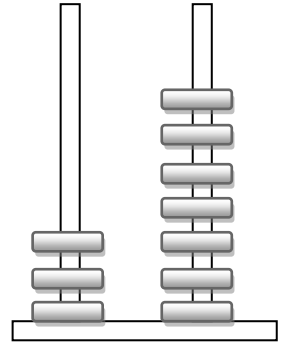
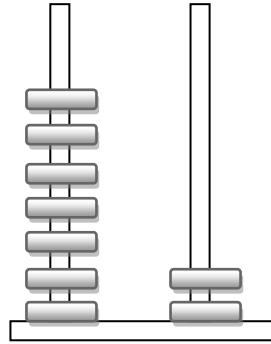
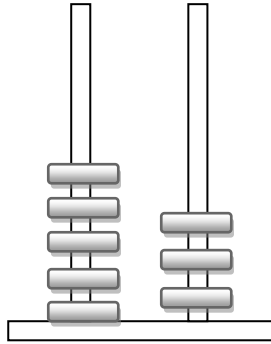
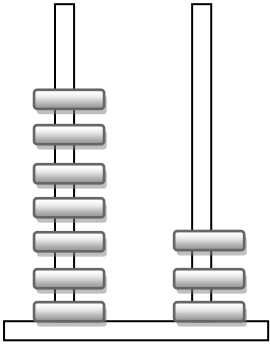


Επαναληπτικό μάθημα

Όνομα: _____

1. Ποιος αριθμός είναι;



Βάζω τους παραπάνω αριθμούς στη σειρά, ξεκινώντας από τον μεγαλύτερο

.....>.....>.....>.....

2. Η γιαγιά έχει 16 καραμέλες και τις μοιράζει εξίσου στα δύο εγγονάκια της. Πόσες καραμέλες θα πάρει το καθένα;


ΛΥΣΗ

ΖΩΓΡΑΦΙΣΩ

ΑΠΑΝΤΗΣΗ.....

.....

3. Κάνε τις παρακάτω πράξεις



7 + 5 = 12 + 4 =

6 + 6 = 15 + 2 =

8 + 5 = 13 + 6 =

9 + 7 = 14 + 5 =

6 + 9 = 12 + 6 =

8 + 3 = 17 + 2 =

7 + 5 = 16 + 4 =

4. Γράψε το μισό των παρακάτω αριθμών

Το μισό το 10 είναι	Το μισό το 100 είναι
Το μισό το 8 είναι	Το μισό το 80 είναι
Το μισό το 6 είναι	Το μισό το 60 είναι
Το μισό το 4 είναι	Το μισό το 40 είναι
Το μισό το 2 είναι	Το μισό το 20 είναι