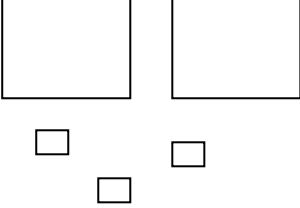
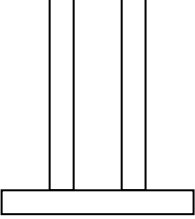
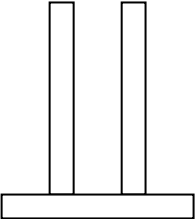
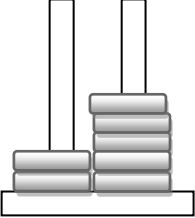
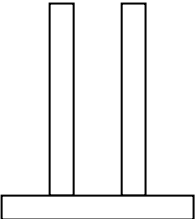
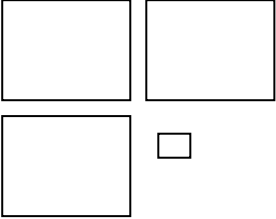
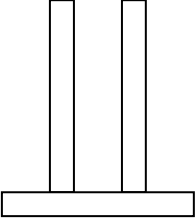


Βρίσκω την αξία των ψηφίων στους διψήφιους αριθμούς

Όνομα: _____

1. Συμπλήρωσε τον παρακάτω πίνακα

Με λέξεις	Με κυβάρια	Με ψηφία	Με άβακα
		23	
Σαράντα δύο			
			
		52	
			

2. Ποιος αριθμός έχει....

2 Μ και 6 Δ : _____

7 Μ και 3 Δ : _____

4 Μ και 7 Δ : _____

5 Μ και 1 Δ : _____

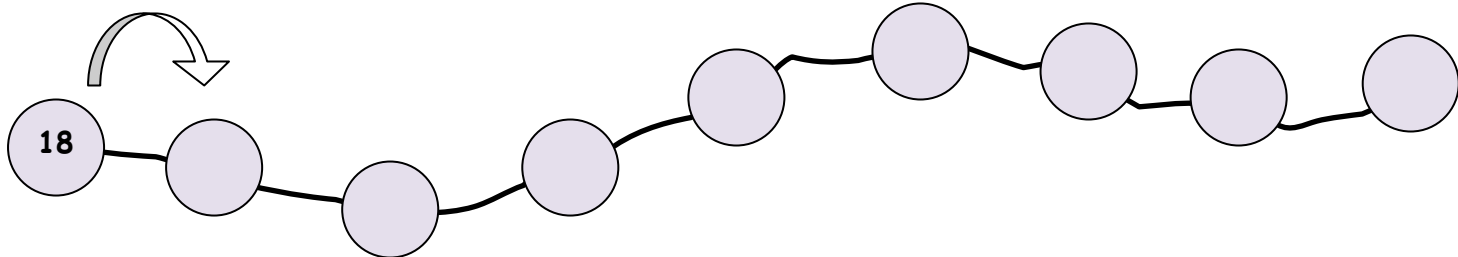
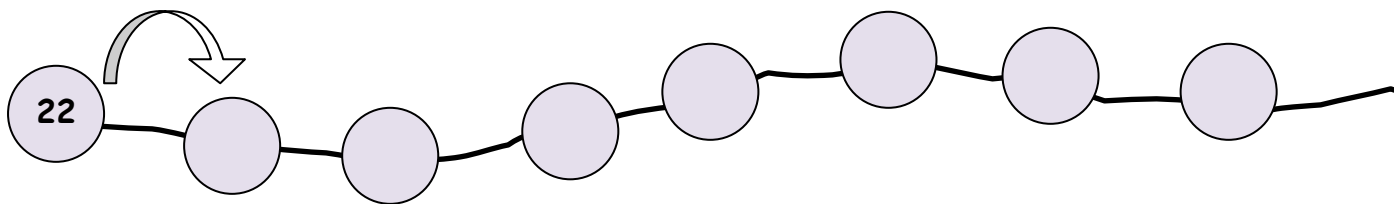
9 Μ και 8 Δ : _____

1 Μ και 5 Δ : _____

Θυμάμαι ότι...
Όταν λέμε το όνομα ενός διψήφιου αριθμού πρώτα ακούγονται οι Δεκάδες και μετά οι Μονάδες
Π.χ. 3 Δ και 7 Μ είναι ο αριθμός
37



3. Ανέβα 10 10



4. Βάλε τους παρακάτω αριθμούς στη σειρά ξεκινώντας από τον μεγαλύτερο

42

36

24

73

51

..... > > > >