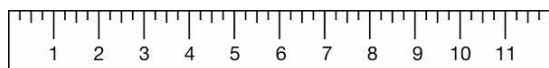
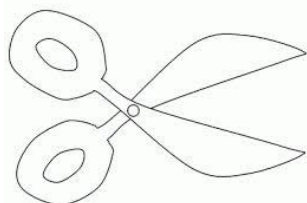


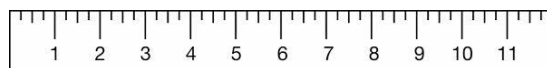
## Μετρώ με εκατοστόμετρα

Όνομα: \_\_\_\_\_

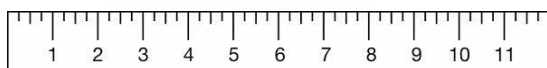
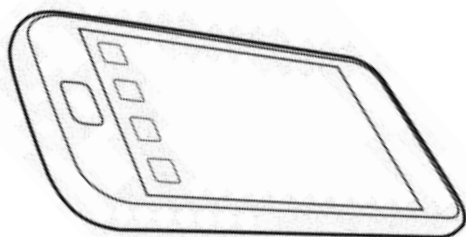
### 1. Γράφω κάτω από κάθε αντικείμενο το μήκος του



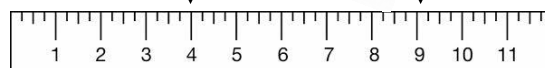
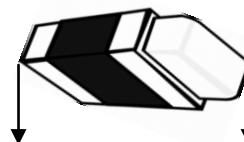
ΤΟ ΨΑΛΙΔΙ ΈΧΕΙ .....ΕΚ



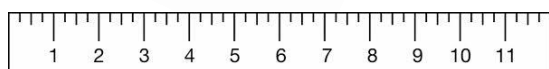
ΤΟ ΠΙΝΈΛΟ ΈΧΕΙ .....ΕΚ



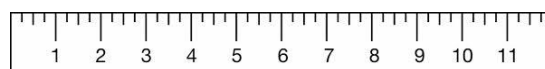
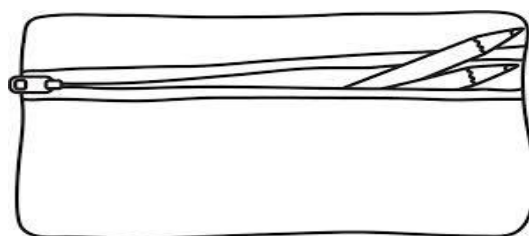
ΤΟ ΚΙΝΗΤΌ ΈΧΕΙ .....ΕΚ.



Η ΓΌΜΑ ΈΧΕΙ .....ΕΚ.

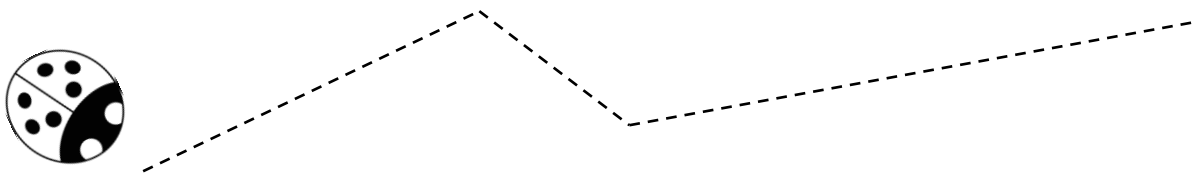


ΤΟ ΚΟΥΤΆΛΙ ΈΧΕΙ ..... ΕΚ.

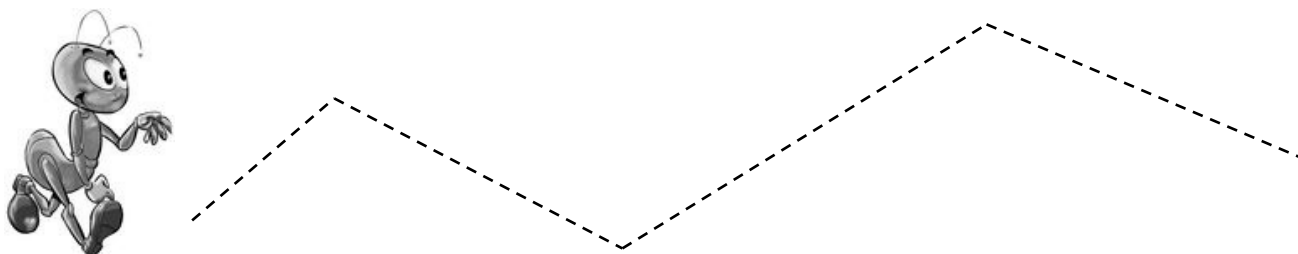


Η ΚΑΣΕΤΪΝΑ ΈΧΕΙ .....ΕΚ.

2. Ποια διαδρομή είναι μεγαλύτερη; Μέτρα με το χάρακά σου και υπολόγισε.



Η διαδρομή Α είναι .....εκ



Η διαδρομή Β είναι ..... εκ

3. Μέτρα με το χάρακά σου πόσα εκατοστόμετρα είναι το τετράγωνο και πόσα το ορθογώνιο. Θυμήσου ότι δε χρειάζεται να μετρήσεις όλες τις πλευρές

