

Βρίσκω την αξία των ψηφίων στους διψήφιους αριθμούς

Όνομα: _____

1. Το βατραχάκι πηδάει 10 10 για να πάει από το ένα νούφαρο στο άλλο.
Μπορείς να το βοηθήσεις;



2. Βρίσκω πόσες δεκάδες (Δ) και πόσες μονάδες (Μ) έχει ο καθένας από τους παρακάτω αριθμούς

Το 23 έχειΔ καιΜ


Το 47 έχειΔ καιΜ

Το 31 έχειΔ καιΜ

Το 13 έχειΔ καιΜ

Το 88 έχειΔ καιΜ

Το 63 έχειΔ καιΜ



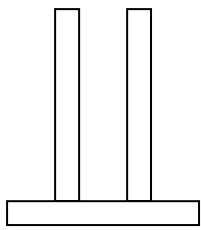
Θυμάμαι ότι...

Όταν λέμε το όνομα ενός διψήφιου αριθμού πρώτα ακούγονται οι Δεκάδες και μετά οι Μονάδες

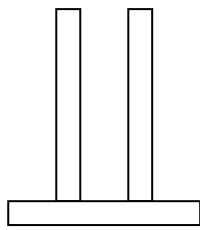
Π.χ. το 26 έχει 2 Δ και 6 Μ



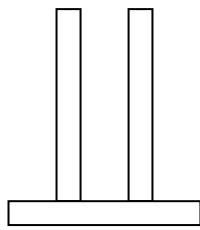
3. Συμπλήρωσε τους παρακάτω άβακες



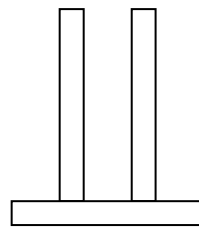
17



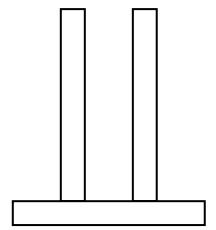
48



84



50



32

4. Χρωμάτισε με κίτρινο τον μικρότερο και με κόκκινο τον μεγαλύτερο αριθμό

