



## Διαβάζω το ρολόι: Η ώρα «και μισή»

Όνομα: \_\_\_\_\_


1. Ζωγράφισε τους δείκτες στα ρολόγια ώστε να δείχνουν σωστά την ώρα




5 και μισή




3 και μισή




8 ακριβώς




12 και μισή




1 ακριβώς




10 και μισή



2 ακριβώς






9 και μισή



7 και μισή

2. Τι ώρα λένε τα ρολόγια;



3. Η εκπομπή στην τηλεόραση άρχισε στις 3 ακριβώς και σταμάτησε μετά από μία ώρα και μισή. Τι ώρα έδειχνε το ρολόι όταν τελείωσε η εκπομπή;

Σχεδίασε τους δείκτες στα ρολόγια

Ξεκίνησε στις 3 ακριβώς



Σταμάτησε στις .....

