

Λύνω προβλήματα με ζωγραφική και παιχνίδια


Όνομα: _____

1. Η γιαγιά αγόρασε 17 καραμέλες. Θέλει να τις μοιράσει δίκαια στα 3 εγγονάκια της.

- Πόσες καραμέλες θα πάρει το καθένα;
- Θα περισσέψουν καραμέλες;

ΛΥΣΗ

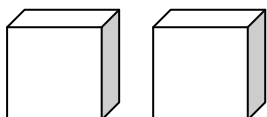
ΖΩΓΡΑΦΙΣΩ



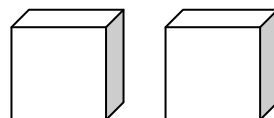
ΑΠΑΝΤΗΣΗ

2. Αν έχω 2 ζάρια ποιος θα είναι ο μεγαλύτερος συνδυασμός που θα φέρω και ποιος ο μικρότερος; Ζωγράφισε τα ζάρια.

A) Μεγαλύτερος συνδυασμός



B) Μικρότερος συνδυασμός



3. Το κάθε  έχει _____  Πόσες  έχουν τα 3 

ΛΥΣΗ

ΖΩΓΡΑΦΙΣΩ

ΑΠΑΝΤΗΣΗ

4. Ο Θάνος έχει στην κασετίνα του 14 ξυλομπογιές και μαρκαδόρους. Αν οι μαρκαδόροι είναι 8 πόσες είναι οι ξυλομπογιές;

ΛΥΣΗ

ΖΩΓΡΑΦΙΣΩ

ΑΠΑΝΤΗΣΗ

