

Όνομα: _____

1. Συμπλήρωσε τους αριθμούς που λείπουν

| | | | | | | | | | |
|---|---|----|----|--|----|----|--|----|----|
| | | 63 | | | | | | | |
| | | | | | 56 | | | | 60 |
| | | | 44 | | | | | | |
| | | | | | | | | 39 | |
| | | | | | | 27 | | | |
| 1 | 2 | | | | | | | | |

2. Βάλε τους αριθμούς στη σειρά ξεκινώντας από τον μεγαλύτερο

32 45 54 49 21 68

..... > > > > >

3. Υπολόγισε

| |
|-------------------------------|
| $15 + 4 = \underline{\quad}$ |
| $12 + 5 = \underline{\quad}$ |
| $15 - 7 = \underline{\quad}$ |
| $18 - 3 = \underline{\quad}$ |
| $16 - 12 = \underline{\quad}$ |
| $14 + 4 = \underline{\quad}$ |
| $13 + 2 = \underline{\quad}$ |

| |
|-------------------------------|
| $20 + 30 = \underline{\quad}$ |
| $50 - 20 = \underline{\quad}$ |
| $30 + 30 = \underline{\quad}$ |
| $60 + 10 = \underline{\quad}$ |
| $70 - 40 = \underline{\quad}$ |
| $40 - 40 = \underline{\quad}$ |
| $20 + 50 = \underline{\quad}$ |

| |
|-------------------------------|
| $20 + 15 = \underline{\quad}$ |
| $40 + 7 = \underline{\quad}$ |
| $65 - 20 = \underline{\quad}$ |
| $43 - 10 = \underline{\quad}$ |
| $30 + 18 = \underline{\quad}$ |
| $50 + 12 = \underline{\quad}$ |
| $63 - 30 = \underline{\quad}$ |



| | | |
|---|----------|----------|
| | Μ | Δ |
| | 2 | 5 |
| + | 3 | 2 |
| | | |

| | | |
|---|----------|----------|
| | Μ | Δ |
| | 4 | 1 |
| + | 2 | 6 |
| | | |

| | | |
|---|----------|----------|
| | Μ | Δ |
| | 6 | 7 |
| - | 2 | 4 |
| | | |









| | | |
|---|----------|----------|
| | Μ | Δ |
| | 5 | 5 |
| - | 2 | 2 |
| | | |



4. Πόσο κάνει....

| | |
|----------------------|----------------|
| 2 φορές το 5= _____ | Γιατί $5+5=10$ |
| 3 φορές το 10= _____ | |
| 5 φορές το 2= _____ | |
| 6 φορές το 10= _____ | |
| 4 φορές το 2= _____ | |
| 7 φορές το 2= _____ | |
| 4 φορές το 5= _____ | |

5. Κύκλωσε πόσα χρήματα χρειάζεται κάθε φορά για να αγοράσουμε τα αντικείμενα

| | |
|---|--|
|  23 λεπτά |  |
|  65 λεπτά |  |
|  43 ευρώ |  |
|  55 ευρώ |  |