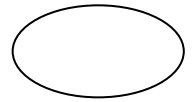
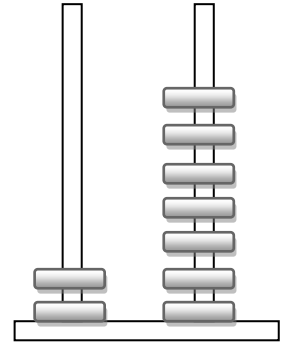
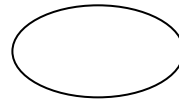
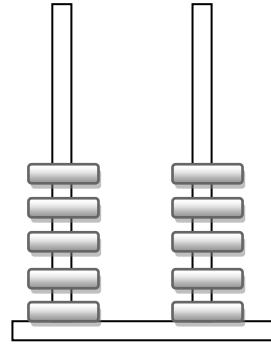
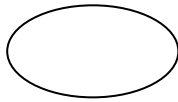
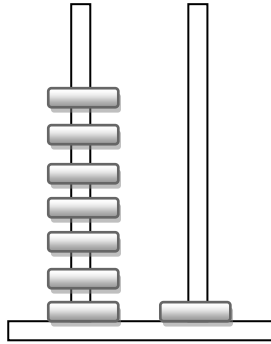
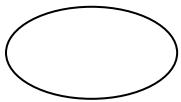
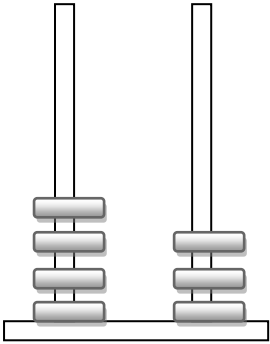



Φτιάχνω αριθμούς μέχρι το 100 και τους συγκρίνω

Όνομα: _____


1. Ποιος αριθμός είναι;



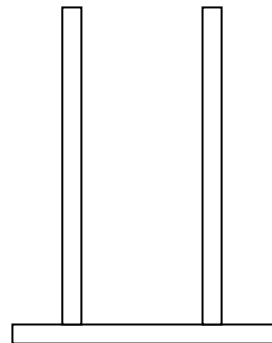
2. Σχημάτισε στους άβακες τους αριθμούς που πρέπει



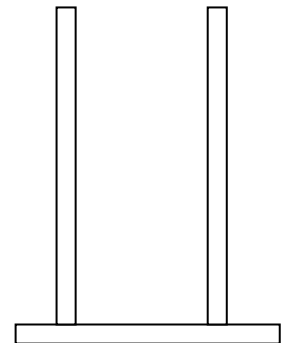
25



52



73



91

3. Γράφω τους αριθμούς από τον μικρότερο στον μεγαλύτερο

35 92 53 61 68 79 17

.....<.....<.....<.....<.....<.....<.....

4. Βρίσκω πόσες μονάδες και πόσες δεκάδες έχει ο αριθμός

Το 38 έχει _____ Δ και _____ Μ

Το 28 έχει _____ Δ και _____ Μ

Το 18 έχει _____ Δ και _____ Μ

Το 52 έχει _____ Δ και _____ Μ

5. Ποιος είναι ο αριθμός που έχει

3 Δεκάδες και 7 Μονάδες : _____

7 Δεκάδες και 3 Μονάδες : _____

5 Δεκάδες και 9 Μονάδες : _____

6 Δεκάδες και 2 Μονάδες : _____

6. Γράψε τον αριθμό που σου ζητάνε

Εξήντα δύο	
Τριάντα επτά	
Εβδομήντα τρία	
Είκοσι πέντε	
Σαράντα οχτώ	
Πενήντα πέντε	

