

Οι αριθμοί μέχρι το 100-Χρήμα

Όνομα: _____

1. Ανεβαίνω τη σκάλα 10-10 μέχρι το 100



2. Γράφω τον αριθμό που είναι πριν και μετά

_____ 79 _____

_____ 83 _____

_____ 99 _____

_____ 71 _____

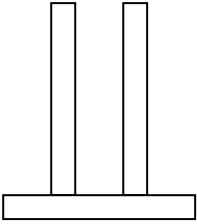
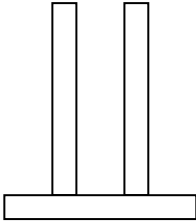
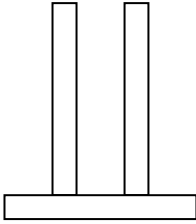
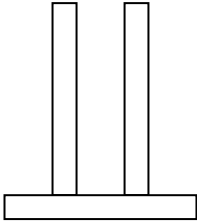
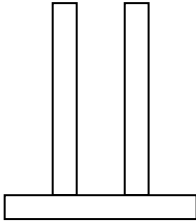
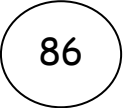


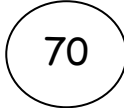

_____ 81 _____

_____ 96 _____

_____ 90 _____

_____ 75 _____

3. Σχημάτισε τους αριθμούς στους άβακες. Μετά βάλτους στη σειρά ξεκινώντας από τον μικρότερο

..... < < < <

4. Πόσα χρήματα είναι κάθε φορά

