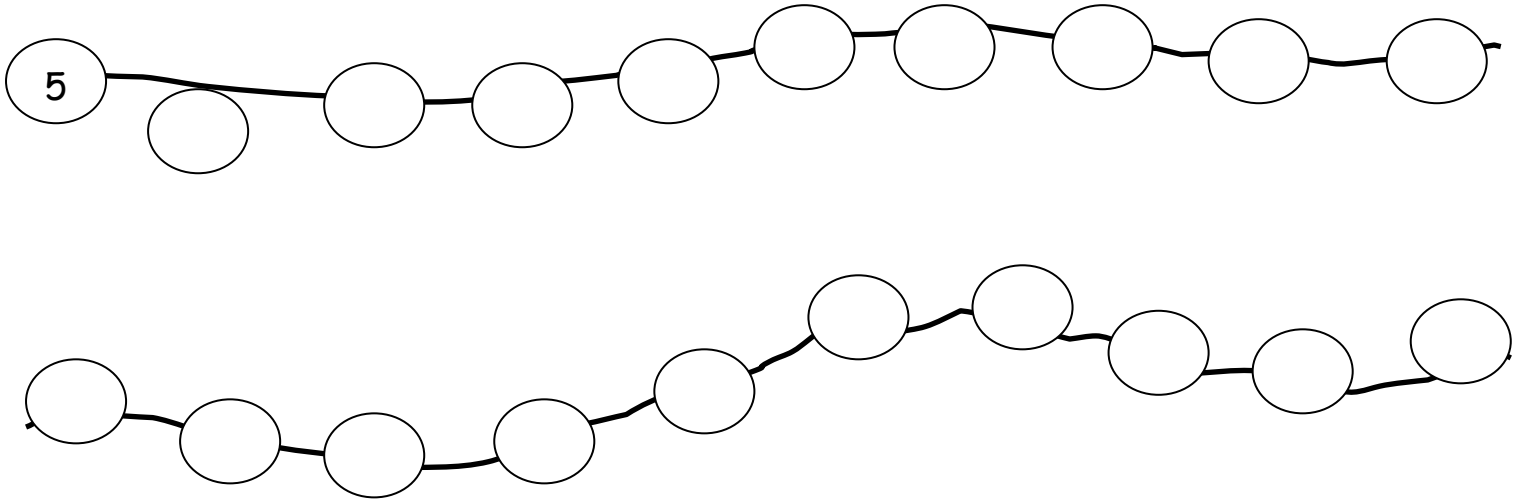


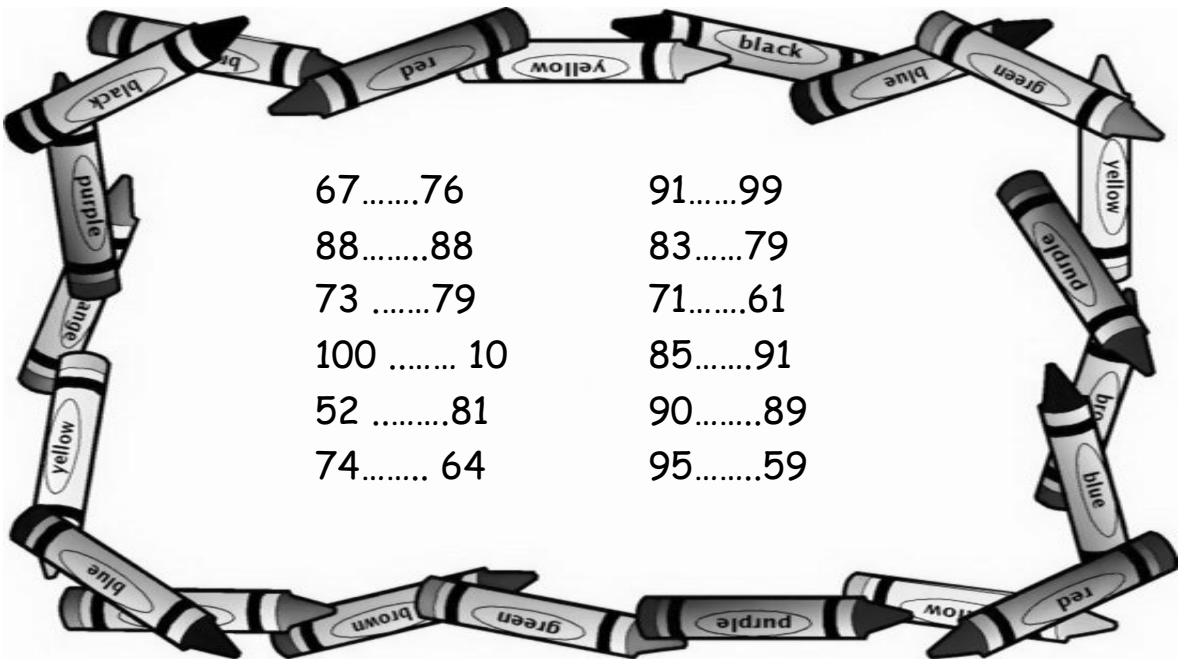
## Οι αριθμοί μέχρι το 100-Χρήμα

Όνομα: \_\_\_\_\_

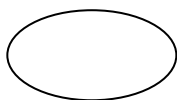
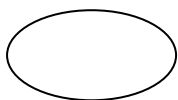
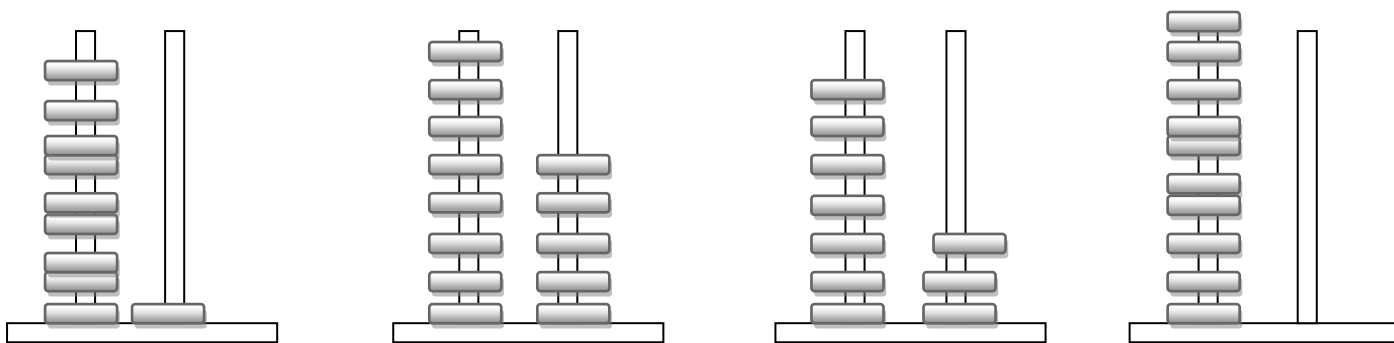
### 1. Ανεβαίνω 5-5 μέχρι το 100



### 2. Βάζω το σωστό σύμβολο ανισότητας (<, >, =)



### 3. Ποιος αριθμός σχηματίζεται στους άβακες:



### 4. Υπολογίζω

$50+20=$  \_\_\_\_\_

$90-20=$  \_\_\_\_\_

$40+40=$  \_\_\_\_\_


$80-40=$  \_\_\_\_\_

$60+30=$  \_\_\_\_\_

$70-30=$  \_\_\_\_\_

$30+40=$  \_\_\_\_\_

$100-20=$  \_\_\_\_\_



### 5. Κυκλώνω κάθε φορά τα χρήματα που μου ζητάνε

70 ευρώ					
85 ευρώ					
90 ευρώ					
80 ευρώ					
100 ευρώ					