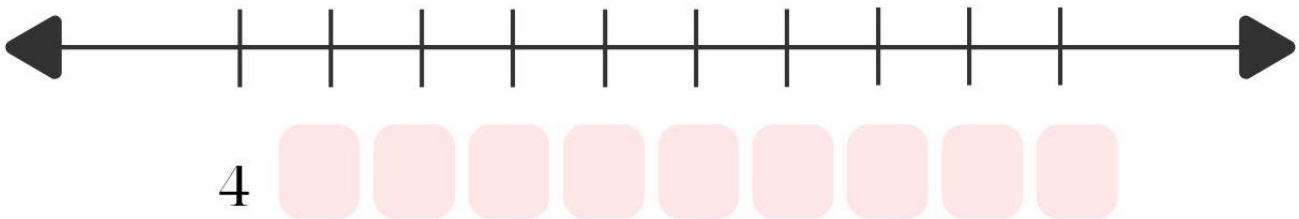
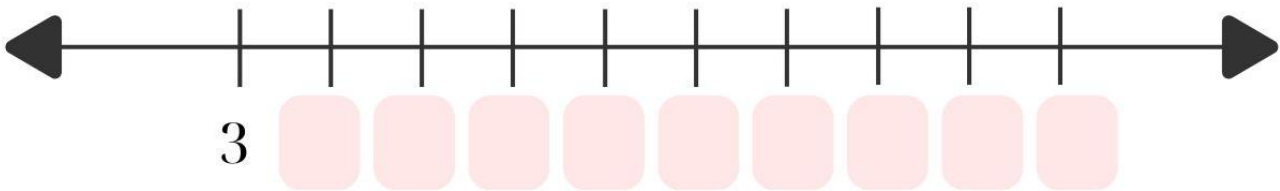



# Πολλαπλασιασμός και διαίρεση

Όνομα: \_\_\_\_\_ Ημερομηνία: \_\_\_\_\_

1. Ανεβαίνω ανά 3-3 και 4-4



2. Μία γάτα έχει 4 πόδια. Πόσα πόδια έχουν

2 γάτες

3 γάτες

4 γάτες



2 φορές το 4 = \_\_\_\_\_

3 φορές το 4 = \_\_\_\_\_

4 φορές το 4 = \_\_\_\_\_


3. Ο Πέτρος έχει 4 νομίσματα των 2 ευρώ. Βάζω  στη σωστή εικόνα



Πόσα χρήματα έχει;

\_\_\_ + \_\_\_ + \_\_\_ + \_\_\_ = \_\_\_ γιατί \_\_\_ φορές το \_\_\_ = \_\_\_

4. Μοιράζω τις καραμέλες στα παιδιά



Γιατί \_\_\_ + \_\_\_ + \_\_\_ = \_\_\_ ή \_\_\_ φορές το \_\_\_ = \_\_\_