


Επαναληπτικό μάθημα

Όνομα: _____

1. Υπολογίζω τα παρακάτω αθροίσματα

$2+4+1=$ _____	$10+10+2=$ _____
$5+1+1=$ _____	$10+3=$ _____
$4+4+0=$ _____	$10+10+10+9=$ _____
$2+3+1=$ _____	$10+10+5=$ _____
$6+2+2=$ _____	$10+10+10+1=$ _____
$3+5+1=$ _____	$10+10+10+10+7=$ _____
$2+3+3=$ _____	$10+1=$ _____
$4+2+1=$ _____	$10+10+10+6=$ _____



2. Γράψε ποιος αριθμός βρίσκεται πριν και μετά

..... 31

..... 49

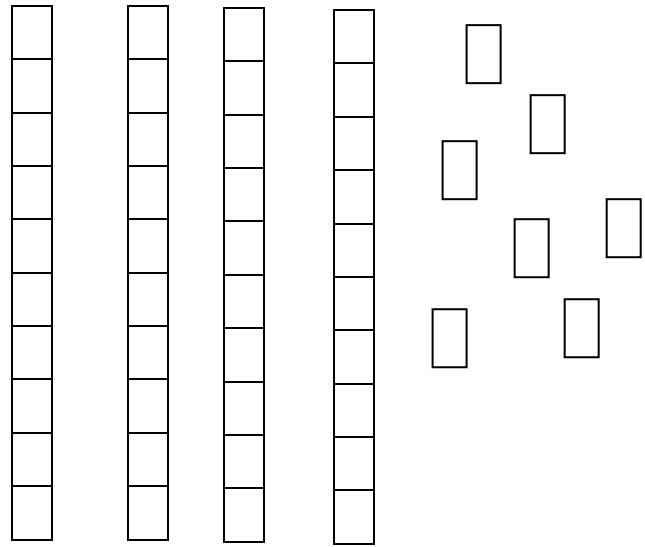
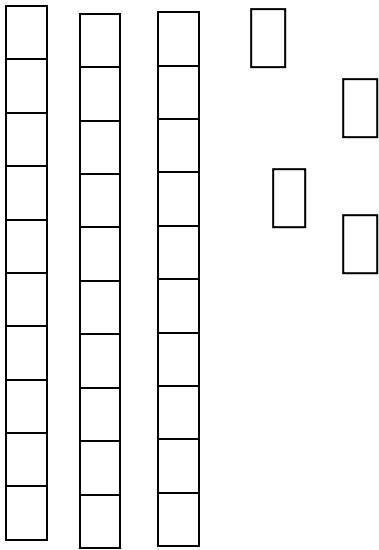
..... 34

..... 20

..... 38

..... 26

3. Γράφω και λέω πόσες είναι οι μονάδες και οι δεκάδες. Γράφω τον αριθμό που προκύπτει



Μονάδες
 Δεκάδες

Μονάδες
 Δεκάδες

4. Πόσα χρήματα έχει το κάθε παιδί; Ποιος έχει τα περισσότερα;



