

Οι αριθμοί μέχρι το 70

Όνομα: _____ Ημερομηνία: _____

1. Γράφω τον αριθμό που είναι πριν και μετά

45

60

51

69

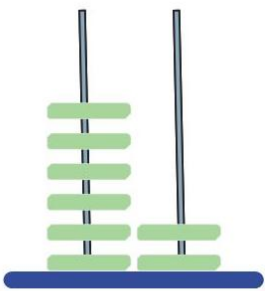
59

50

63

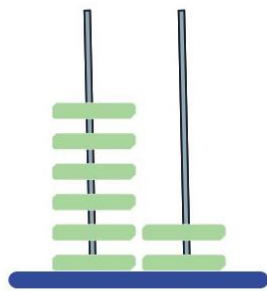
49

2. Ποιος αριθμός είναι;

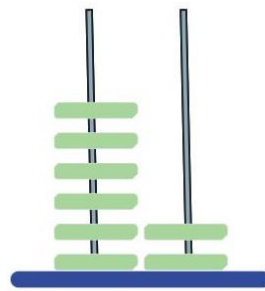


Δ Μ

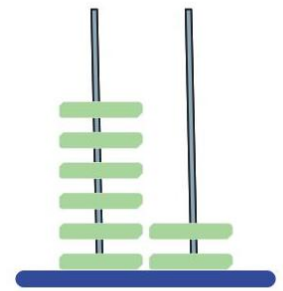
62



Δ Μ



Δ Μ



Δ Μ

3. Κάνω το αντίθετο. Ζωγραφίζω όσα λέει ο αριθμός




Δ Μ

65



Δ Μ

51



Δ Μ

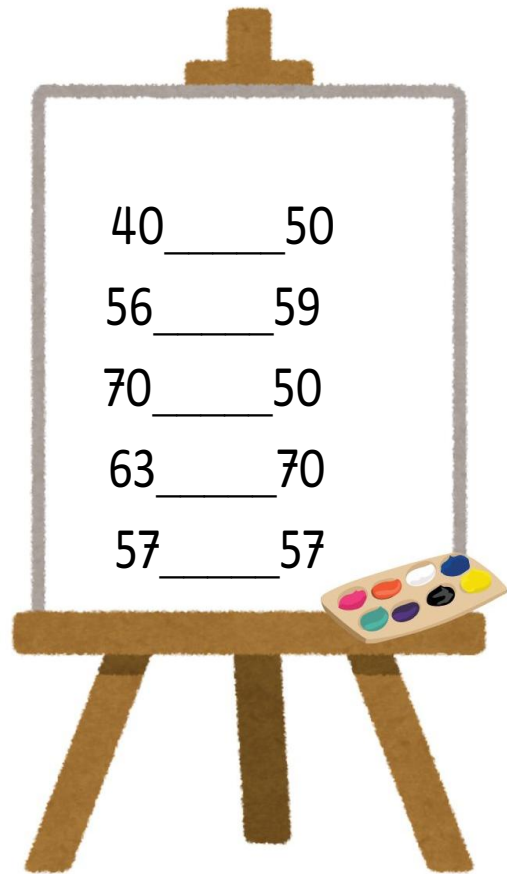

69



Δ Μ

53

4. Βάζω το σωστό σύμβολο της ανισότητας (<, >, =)



5. Γράφω τον αριθμό που μου ζητάνε

Εξήντα δύο	
Εβδομήντα	
Πενήντα έξι	
Εξήντα εννιά	

Πενήντα πέντε	
Εξήντα ένα	
Πενήντα εννιά	
Εξήντα οχτώ	