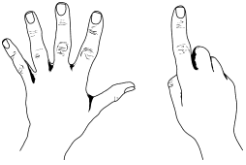


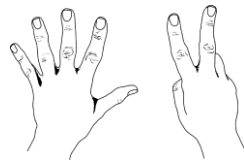
Υπολογισμοί-επιστροφή στη δεκάδα

Όνομα: _____

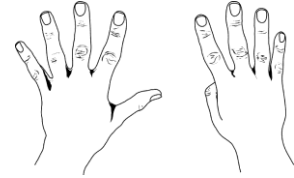
1. Πόσο κάνει; Συμπλήρωσε τα κενά



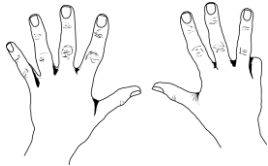
$5 + \underline{\quad} = 6$



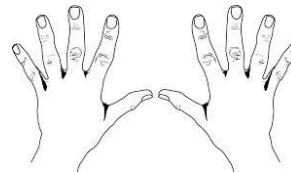
$\underline{\quad} + \underline{\quad} = \underline{\quad}$



$\underline{\quad} + \underline{\quad} = \underline{\quad}$



$\underline{\quad} + \underline{\quad} = \underline{\quad}$



$\underline{\quad} + \underline{\quad} = \underline{\quad}$

2. Βρες το συμπλήρωμα χωρίς τη βοήθεια της παραπάνω άσκησης

$6 = \underline{\quad} + 5$

$9 = 5 + \underline{\quad}$

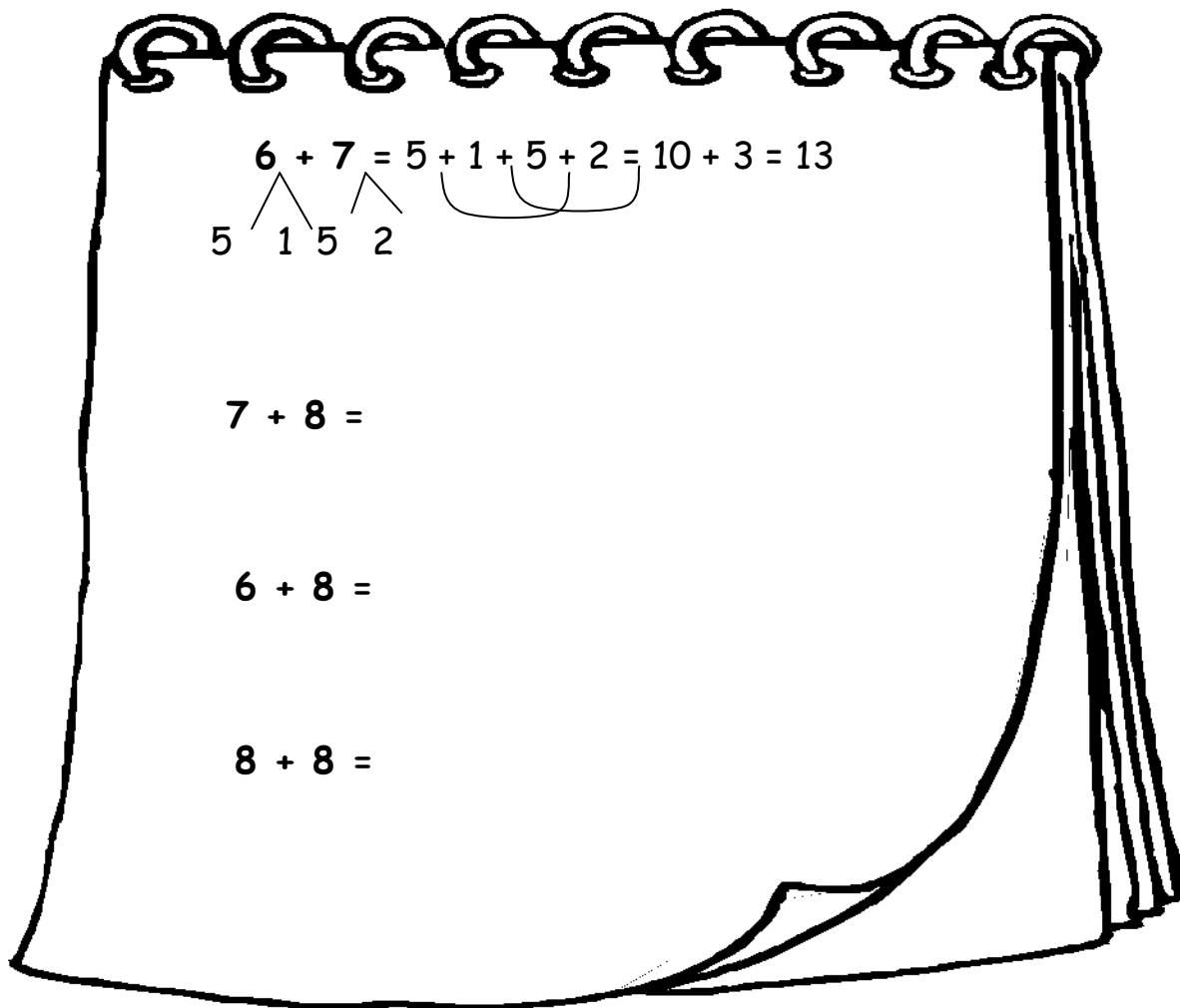
$7 = \underline{\quad} + 2$

$8 = 3 + \underline{\quad}$

$10 = 5 + \underline{\quad}$



3. Λύσε τις ασκήσεις με τη βοήθεια του 5. Δες το παράδειγμα



4. Η Μελίνα είχε 9 χάντρες και της χάρισε η φίλη της άλλες 5. Πόσες χάντρες έχει τώρα;

ΛΥΣΗ

=

ΖΩΓΡΑΦΙΣΩ

ΑΠΑΝΤΗΣΗ

.....