


## Προβλήματα

Όνομα: \_\_\_\_\_

1. Ένας βοσκός είχε 14 προβατάκια. Χάθηκαν τα 6 στο βουνό. Πόσα του έμειναν τώρα;

ΛΥΣΗ

$$\square \quad \square = \square$$




ΑΠΑΝΤΗΣΗ

.....

2. Στον κήπο του σπιτιού μου φύτεψα 6 μαργαρίτες και 7 τουλίπες. Πόσα λουλούδια φύτεψα συνολικά;

ΛΥΣΗ

$$\square \quad \square = \square$$



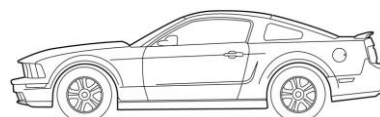
ΑΠΑΝΤΗΣΗ

.....

3. Ο Μάνος έχει 12 αυτοκινητάκια και ο φίλος του ο Άκης 4 αυτοκινητάκια περισσότερα. Πόσα αυτοκινητάκια έχει ο Άκης;

ΛΥΣΗ

$$\square \quad \square = \square$$



ΑΠΑΝΤΗΣΗ

.....