

Προβλήματα

Όνομα: _____


1. Πόσα μολύβια είναι μέσα και έξω από την κασετίνα κάθε φορά;



9



8




7

2. Ο Θάνος έχει 15 βόλους και έδωσε του 7 στο φίλο του τον Νίκο.
Πόσοι βόλοι του έμειναν;

ΛΥΣΗ

$$\square \quad \square = \square$$

ΖΩΓΡΑΦΙΣΩ



ΑΠΑΝΤΗΣΗ.....

.....


3. Στην τάξη μου έχουμε 7 κορίτσια και 4 αγόρια περισσότερα.

- Πόσα είναι τα αγόρια;

ΛΥΣΗ

$$\square \quad \square = \square$$

ΖΩΓΡΑΦΙΖΩ




ΑΠΑΝΤΗΣΗ.....

.....

- Πόσα είναι όλα τα παιδιά στην τάξη

$$\square \quad \square = \square$$



ΑΠΑΝΤΗΣΗ.....

.....

Στην αυλή του σπιτιού άνθισαν 13 μαργαρίτες. Έκοψα τις 5. Πόσες έμειναν;

ΛΥΣΗ

$$\square \quad \square = \square$$

ΖΩΓΡΑΦΙΖΩ



ΑΠΑΝΤΗΣΗ.....

.....