

Προβλήματα

Όνομα: _____

Ο Θωμάς έχει 10 αυτοκόλλητα και έδωσε τα 4 στον φίλο του τον Άρη. Πόσα του έμειναν;

Λύση

$$\square \quad \square = \square$$

Απάντηση

Ζωγραφίζω

Η Μελίνα έχει 5 ευρώ και ο αδερφός της 3 ευρώ. Πόσα ευρώ παραπάνω έχει η Μελίνα;


Λύση

$$\square \quad \square = \square$$


Απάντηση

Ζωγραφίζω


Μάνος



Λίνα



Θανάσης



1. Ποιος έχει τα περισσότερα χρήματα;.....
2. Πόσα χρήματα έχει ο Μάνος και ο Θανάσης;.....
3. Ποιο παιδί έχει τα λιγότερα χρήματα;.....
4. Πόσα χρήματα παραπάνω έχει η Λίνα από τον Μάνο;.....
5. Ποιο παιδί μπορεί να αγοράσει το τόπι;.....
6. Θα πάρει ρέστα; Αν ναι πόσα;.....

6 ευρώ

