

Οι αριθμοί μέχρι το 70

Όνομα: _____

1. Γράφω τον αριθμό που είναι πριν και μετά

45

60

51

69

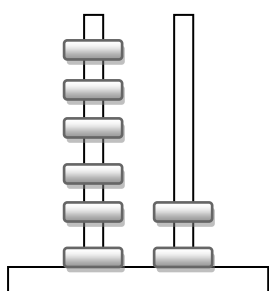
59

50

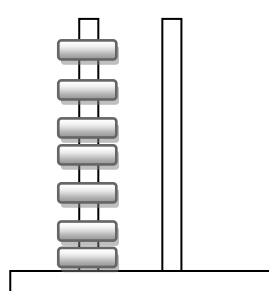
63

49

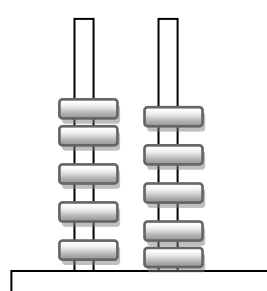
2. Ποιος αριθμός είναι;



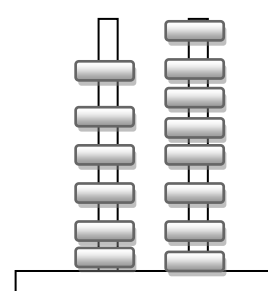
Δ Μ



Δ Μ

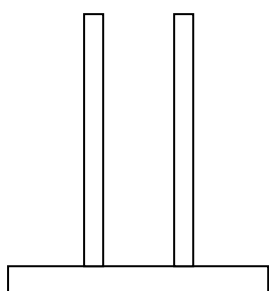


Δ Μ

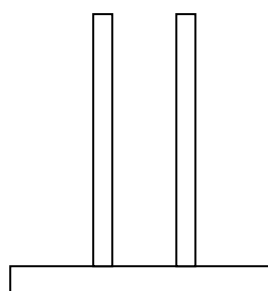


Δ Μ

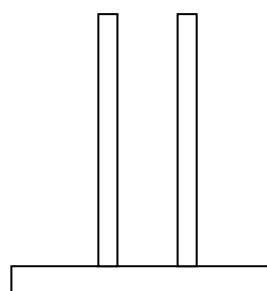
3. Κάνω το αντίθετο. Ζωγραφίζω όσα λέει ο αριθμός



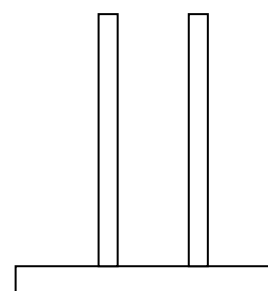
65



51




69



53

4. Βάζω το σωστό σύμβολο ανισότητας (<, >, =)



5. Γράφω τον αριθμό που μου ζητάνε

Εξήντα δύο		Πενήντα πέντε	
Εβδομήντα		Εξήντα ένα	
Πενήντα έξι		Εξήντα οχτώ	
Εξήντα εννιά		Πενήντα εννιά	